

Unidad 11 – Derivadas

ACTIVIDADES FINALES

EJERCICIOS Y PROBLEMAS

1. Calcula la tasa de variación media en el intervalo $[2, 5]$ para las funciones:

$$f(x) = 7 - 2x \quad g(x) = 4x^2 - 3x + 5 \quad k(x) = \frac{3x}{x^2 + 1} \quad t(x) = \sqrt{x + 4}$$

2. Calcula, mediante la definición de derivada de una función en un punto, las derivadas de las siguientes funciones en los puntos que se indican:

a) $f(x) = (2x - 1)^2$; $D f(2)$ b) $f(x) = \sqrt{x + 3}$; $f'(6)$ c) $f(x) = \frac{2}{x^2 + 1}$; $D f(0)$

3. Estudia la derivabilidad de las siguientes funciones en $x = 0$:

a) $f(x) = |x|$ b) $f(x) = \begin{cases} -x^2 + 1 & \text{si } x < 0 \\ 1 & \text{si } x \geq 0 \end{cases}$ c) $f(x) = \begin{cases} x^2 - x & \text{si } x \leq 0 \\ \text{sen } x & \text{si } x > 0 \end{cases}$

4. ¿Para qué valores de a y b cada una de las siguientes funciones es continua y derivable?

a) $f(x) = \begin{cases} x^3 - 12x + 1 & \text{si } 0 \leq x \leq 1 \\ 20x^2 + bx + a & \text{si } 1 < x \leq 2 \end{cases}$ b) $f(x) = \begin{cases} x^2 + 2 & \text{si } x \leq 0 \\ \sqrt{ax + b} & \text{si } 0 < x \leq 2 \\ \frac{3}{\sqrt{2}} - \frac{x}{2\sqrt{2}} & \text{si } x > 2 \end{cases}$

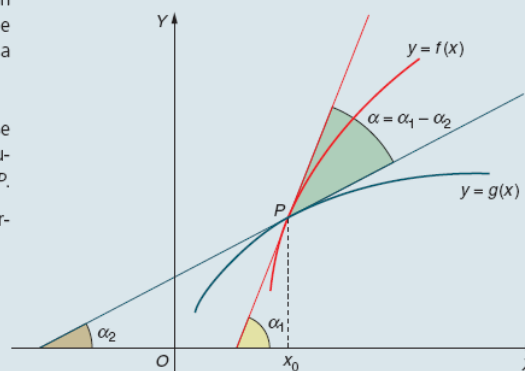
5. Halla las ecuaciones de las rectas tangente y normal a la curva $y = 2x^3 + x$ en el origen de coordenadas.
6. Halla los puntos en los cuales la tangente a la curva $y = 2x^3 + 3x^2 - 30x - 6$ es paralela a la recta de ecuación $y = 6x - 5$.
7. Encuentra la ecuación de la recta tangente a la curva $xy^2 - 5y = 6$ en el punto $(1, 6)$.
8. Dada la función $y = x^2 - 4x + 3$, encuentra un punto de su gráfica en el cual la recta tangente a ella sea paralela a la secante a la curva en los puntos de abscisas $x = 1$ y $x = 4$.
9. Halla los valores de a y b para los cuales la recta tangente a la curva $y = x^2 + ax + b$ en el punto $P(3, 0)$ tenga de pendiente 2.
10. Encuentra la ecuación de la recta tangente a la función $f(x) = e^{3x}$ en un punto cualquiera $x = a$. Halla el valor de a para que dicha recta pase por el punto (exterior a la curva) $P(1, 0)$.

11. Llamamos ángulo de dos curvas $y = f(x)$ e $y = g(x)$ que se cortan en un punto P de abscisa x_0 al menor de los ángulos α que forman sus respectivas tangentes en el punto P .

Halla el ángulo que forman los siguientes pares de curvas en todos sus puntos de corte:

a) $f(x) = x^2$
 $g(x) = x + 2$

b) $f(x) = x^3 + x^2$
 $g(x) = x + 1$



SOLUCIONES

1. La solución en cada caso es:

- $f(x) = 7 - 2x$

$$tv_m[2, 5] = \frac{f(5) - f(2)}{5 - 2} = \frac{-3 - 3}{3} = -2$$

- $g(x) = 4x^2 - 3x + 5$

$$tv_m[2, 5] = \frac{g(5) - g(2)}{5 - 2} = \frac{90 - 15}{3} = 25$$

- $k(x) = \frac{3x}{x^2 + 1}$

$$tv_m[2, 5] = \frac{k(5) - k(2)}{5 - 2} = \frac{\frac{15}{26} - \frac{6}{5}}{3} = -\frac{27}{130} \approx -0,21$$

- $t(x) = \sqrt{x + 4}$

$$tv_m[2, 5] = \frac{t(5) - t(2)}{5 - 2} = \frac{\sqrt{9} - \sqrt{6}}{3} \approx 0,18$$

2. Las derivadas son:

a) $D[f(2)] = f'(2) = \lim_{h \rightarrow 0^+} \frac{f(2+h) - f(2)}{h} =$

$$= \lim_{h \rightarrow 0} \frac{[2(2+h) - 1]^2 - 3^2}{h} =$$

$$= \lim_{h \rightarrow 0} \frac{4h^2 + 12h + 9 - 9}{h} = \lim_{h \rightarrow 0} \frac{h(4h + 12)}{h} = 12$$

b) $f'(6) = \lim_{h \rightarrow 0^+} \frac{f(6+h) - f(6)}{h} = \lim_{h \rightarrow 0^+} \frac{\sqrt{9+h} - 3}{h} = \left(\frac{0}{0}\right)$

$$\stackrel{\left(\frac{0}{0}\right)}{=} \lim_{h \rightarrow 0} \frac{(\sqrt{9+h} - 3)(\sqrt{9+h} + 3)}{h(\sqrt{9+h} + 3)} =$$

$$= \lim_{h \rightarrow 0} \frac{h}{h(\sqrt{9+h} + 3)} = \lim_{h \rightarrow 0} \frac{1}{\sqrt{9+h} + 3} = \frac{1}{6}$$

$$\begin{aligned}
 \text{c) } D[f(0)] = f'(0) &= \lim_{h \rightarrow 0^+} \frac{f(0+h) - f(0)}{h} = \\
 &= \lim_{h \rightarrow 0} \frac{\frac{2}{h^2 + 1} - 2}{h} = \lim_{h \rightarrow 0} \frac{-2h^2}{(h^2 + 1)h} = \left(\frac{0}{0}\right) \\
 &= \lim_{h \rightarrow 0} \frac{-2h}{h^2 + 1} = 0
 \end{aligned}$$

3. En cada caso:

$$\begin{aligned}
 \text{a) } \bullet f'(0^+) &= \lim_{h \rightarrow 0^+} \frac{f(0+h) - f(0)}{h} = \lim_{h \rightarrow 0^+} \frac{h - 0}{h} = 1 \\
 f'(0^-) &= \lim_{h \rightarrow 0^-} \frac{f(0+h) - f(0)}{h} = \lim_{h \rightarrow 0^-} \frac{-h - 0}{h} = -1
 \end{aligned}$$

$f(x)$ no es derivable en $x = 0$, pues las derivadas laterales son distintas.

$$\begin{aligned}
 \text{b) } f'(0^+) &= \lim_{h \rightarrow 0^+} \frac{f(0+h) - f(0)}{h} = \lim_{h \rightarrow 0^+} \frac{1-1}{h} = 0 \\
 f'(0^-) &= \lim_{h \rightarrow 0^-} \frac{f(0+h) - f(0)}{h} = \lim_{h \rightarrow 0^+} \frac{-h^2 + 1 - 1}{h} = \left(\frac{0}{0}\right) \\
 &= \lim_{h \rightarrow 0^-} -h = 0
 \end{aligned}$$

$g(x)$ es derivable en $x = 0$.

$$\begin{aligned}
 \text{c) } f'(0^+) &= \lim_{h \rightarrow 0^+} \frac{f(0+h) - f(0)}{h} = \lim_{h \rightarrow 0^+} \frac{\text{sen } h - 0}{h} = 1 \\
 f'(0^-) &= \lim_{h \rightarrow 0^-} \frac{f(0+h) - f(0)}{h} = \lim_{h \rightarrow 0^+} \frac{h^2 - h^2}{h} = \left(\frac{0}{0}\right) \\
 &= \lim_{h \rightarrow 0^-} \frac{h(h-1)}{h} = -1
 \end{aligned}$$

4. El estudio queda:

a) Al ser la función continua en $(0, 2)$ se cumple:

$$\begin{aligned} \lim_{h \rightarrow 1^-} f(x) &= \lim_{h \rightarrow 1^+} f(x) \Leftrightarrow \\ \Leftrightarrow \lim_{h \rightarrow 1^-} (x^3 - 12x + 1) &= \lim_{h \rightarrow 1^+} (20x^2 + bx + c) \Leftrightarrow \\ \Leftrightarrow -10 &= 20 + b + c \Leftrightarrow b + c = -30 \end{aligned}$$

La función es derivable en $(0, 2)$, por tanto:

$$\begin{aligned} \lim_{x \rightarrow 1^-} \frac{f(x) - f(1)}{x - 1} &= \lim_{x \rightarrow 1^+} \frac{f(x) - f(1)}{x - 1} \Leftrightarrow \\ \Leftrightarrow \lim_{x \rightarrow 1^-} \frac{x^3 - 12x + 1 - (-10)}{x - 1} &= \\ = \lim_{x \rightarrow 1^+} \frac{20x^2 + bx + c - (-10)}{x - 1} &\Leftrightarrow \\ \Leftrightarrow -9 = 40 + b &\Leftrightarrow b = -49. \end{aligned}$$

La solución del sistema: $b = -49$; $c = 19$

b) para que sea continua la función debe cumplirse:

$$\begin{aligned} \lim_{x \rightarrow 0^-} (x^2 + 2) &= \lim_{x \rightarrow 0^+} \sqrt{ax + b} \Leftrightarrow 2 = \sqrt{b} \Leftrightarrow b = 4 \\ \lim_{x \rightarrow 2^-} \sqrt{ax + b} &= \lim_{x \rightarrow 2^+} \frac{-x}{2\sqrt{2}} + \frac{3}{\sqrt{2}} \Leftrightarrow \sqrt{2a + b} = \sqrt{2} \end{aligned}$$

La solución del sistema: $a = -1$; $b = 4$

La función es derivable en cualquier punto salvo en $x = 0$.

En este punto las derivadas laterales no coinciden al ser: $f'(0^-) = 0$; $f'(0^+) = -\frac{1}{4}$;

En $x = 2$ la función es derivable puesto que

$$\begin{aligned} f'(2^-) &= \frac{-1}{2\sqrt{2}} = \frac{-\sqrt{2}}{4} \quad \text{y} \quad f'(2^+) = \frac{-1}{2\sqrt{2}} = \frac{-\sqrt{2}}{4} \\ &\text{es decir } f'(2^-) = f'(2^+) \end{aligned}$$

5. La solución es:

$$f(x) = 2x^3 + x$$

$$\text{Recta tangente: } y - f(0) = f'(0) \cdot (x - 0)$$

$$f'(x) = 6x^2 + 1 \Rightarrow f'(0) = 1$$

$$y - 0 = 1(x - 0) \Rightarrow \boxed{y = x}$$

$$\text{Recta normal: } y - f(0) = \frac{-1}{f'(0)} \cdot (x - 0)$$

$$y - 0 = -1(x - 0) \Rightarrow \boxed{y = -x}$$

6. La solución queda:

La pendiente de la recta $y = 6x - 5$ vale 6; por tanto, la pendiente de la recta tangente, al ser paralela a la anterior, también vale 6. Hemos de encontrar el punto $(x_0, f(x_0))$ en el cual $f'(x_0) = 6$.

$$\begin{aligned} f'(x) &= 6x^2 + 6x - 30 \Rightarrow f'(x_0) = 6x_0^2 + 6x_0 - 30 \Rightarrow \\ &\Rightarrow 6x_0^2 + 6x_0 - 30 = 6 \Rightarrow 6x_0^2 + 6x_0 - 36 = 0 \Rightarrow \\ &\Rightarrow x_0^2 + x_0 - 6 = 0 \Rightarrow x_0 = 2; x_0 = -3 \end{aligned}$$

Los puntos son: (2, -38) y (-3, 57).

7. La solución es:

Derivando obtenemos

$$y^2 + 2xyy' - 5y' = 0$$

$$36 + 12m - 5m = 0$$

$$m = -\frac{36}{7}$$

$$\text{Recta tangente: } 36x + 7y - 78 = 0$$

8. La recta secante que pasa por los puntos (1, 0) y (4, 3) es $y = x + 1$.

Su pendiente vale 1, luego la pendiente de la tangente vale 1 al ser rectas paralelas $\Rightarrow f'(x_0) = 1$.

$$f'(x) = 2x - 4 \Rightarrow f'(x_0) = 2x_0 - 4 \Rightarrow 2x_0 - 4 = 1 \Rightarrow x_0 = \frac{5}{2}$$

El punto pedido es $\left(\frac{5}{2}, \frac{-3}{4}\right)$

9. La solución:

La grafica de la curva dada pasa por el punto $P(3,0) \Rightarrow 0 = 9 + 3a + b$.

Por otro lado, $f'(3) = 2 \Rightarrow$ como $f'(x) = 2x + a \Rightarrow f'(3) = 6 + a \Rightarrow 6 + a = 2 \Rightarrow a = -4$

Luego, $a = -4$ y $b = -9 - 3a = 3 \Rightarrow \boxed{a = -4 \text{ y } b = 3}$

10. Queda:

La ecuación de la recta tangente a la curva $f(x) = e^{3x}$ en $x = a$ es:

$$y - e^{3a} = 3e^{3a}(x - a)$$

Si esta recta pasa por el punto $P(1, 0)$ se cumple:

$$\begin{aligned} -e^{3a} &= 3e^{3a}(1 - a) \Leftrightarrow -1 = 3(1 - a) \Leftrightarrow \\ &\Leftrightarrow -\frac{1}{3} = 1 - a \Leftrightarrow a = \frac{4}{3}. \end{aligned}$$

11. La solución en cada caso queda:

$$\begin{aligned} \text{a) } \left. \begin{array}{l} f(x) = x^2 \\ g(x) = x + 2 \end{array} \right\} &\Rightarrow x^2 = x + 2 \Rightarrow x^2 - x - 2 = 0 \\ &\Rightarrow x_1 = 2; \quad x_2 = -1 \end{aligned}$$

Los puntos de corte son (2, 4) y (-1, 1)

- Recta tangente a $f(x)$ en (2, 4).

$$y - f(2) = f'(2)(x - 2) \Rightarrow y - 4 = 4(x - 2) \Rightarrow y = 4x - 4$$

Recta tangente a $g(x)$ en (2, 4)

$$y - g(2) = g'(2)(x - 2) \Rightarrow y - 4 = 1(x - 2) \Rightarrow y = x + 2$$

$$\operatorname{tg} \alpha_1 = 4 \Rightarrow \alpha_1 = 75^\circ 57' 50''$$

$$\operatorname{tg} \alpha_2 = 1 \Rightarrow \alpha_2 = 45^\circ$$

El ángulo que forman las curvas $f(x)$ y $g(x)$ en el punto $(2, 4)$ vale: $\alpha_1 - \alpha_2 = 30^\circ 57' 50''$

- Recta tangente a $f(x)$ en $(-1, 1)$

$$y - f(-1) = f'(-1)(x + 1)$$

$$\Rightarrow y - 1 = -2(x + 1) \Rightarrow y = -2x - 1 \Rightarrow \operatorname{tg} \alpha_1 = -2$$

Recta tangente a $g(x)$ en $(-1, 1)$

$$y - g(-1) = g'(-1)(x + 1) \Rightarrow y - 1 = 1(x + 1) \Rightarrow y = x + 2$$

$$\Rightarrow \operatorname{tg} \alpha_2 = 1$$

$$\operatorname{tg} \alpha_1 = -2 \Rightarrow \alpha_1 = 116^\circ 33' 54''$$

$$\operatorname{tg} \alpha_2 = 1 \Rightarrow \alpha_2 = 45^\circ$$

El ángulo que formen $f(x)$ y $g(x)$ en el punto $(-1, 1)$ vale: $71^\circ 33' 54''$

$$\text{b) } \left. \begin{array}{l} f(x) = x^3 + x^2 \\ g(x) = x + 1 \end{array} \right\} \Rightarrow \text{Se cortan en } (1, 2) \text{ y } (-1, 0)$$

- La recta tangente a $f(x)$ en $(1, 2)$ tiene de pendiente $5 \Rightarrow \operatorname{tg} \alpha_1 = 5 \Rightarrow \alpha_1 = 78^\circ 41' 24''$

La recta tangente a $g(x)$ en $(-1, 0)$ tiene por pendiente $1 \Rightarrow \operatorname{tg} \alpha_2 = 1 \Rightarrow \alpha_2 = 45^\circ$

El ángulo que forman en el punto $(1, 2)$ es: $33^\circ 41' 24''$

- La recta tangente a $f(x)$ en $(-1, 0)$ tiene de pendiente $1 \Rightarrow \operatorname{tg} \alpha_1 = 1 \Rightarrow \alpha_1 = 45^\circ$

La recta tangente a $g(x)$ en $(-1, 0)$ tiene de pendiente $1 \Rightarrow \operatorname{tg} \alpha_2 = 1 \Rightarrow \alpha_2 = 45^\circ$

El ángulo que forman en $(-1, 0)$ vale 0° .

■ 12. Calcula las derivadas de las siguientes funciones:

- | | | |
|---|--|--------------------------------------|
| a) $D[x^2]$ | g) $D[x^3 \cdot x^4]$ | m) $D[(x^2 - 3)^5]$ |
| b) $D[(3x)^{1/3}]$ | h) $D[x \cdot 4^x]$ | n) $D[(x + 1)^3 \cdot (x - 1)^2]$ |
| c) $D[3^x \cdot \ln x]$ | i) $D[(e^{2x} + 3)^4]$ | ñ) $D[\ln(2 - 3x^2)^4]$ |
| d) $D\left[\frac{2}{(x^3 - 3x^2)^6}\right]$ | j) $D\left[\frac{1}{\sqrt{4 - 5x^2}}\right]$ | o) $D[(4x + 2) \cdot \sqrt{4x - 2}]$ |
| e) $D\left[\frac{e^x}{x}\right]$ | k) $D\left[\frac{x}{e^x}\right]$ | p) $D[x^2 \cdot 2^x \cdot a^{2x}]$ |
| f) $D[\text{sen } 4x]$ | l) $D[\text{sen}^4 x]$ | q) $D[\text{sen } x^4]$ |

■ 13. Calcula las derivadas que se indican a continuación:

- | | | |
|---|--|--|
| a) $D[(x - \sqrt{1 - x^2})^3]$ | i) $D[\text{sen}^2 x^2]$ | p) $D[\arcsen \sqrt{x - 1}]$ |
| b) $D\left[\frac{\cos(x - 1)}{\cos(x + 1)}\right]$ | j) $D[x^2 + \text{sen } x]$ | q) $D\left[\sqrt{\frac{1 + 7x}{1 - 7x}}\right]$ |
| c) $D[\ln \text{tg}^2 x]$ | k) $D[\ln^2(\ln x)]$ | r) $D[(1 - x)\sqrt{1 + x^2}]$ |
| d) $D\left[\sqrt{\frac{1 - \text{sen } x}{1 + \text{sen } x}}\right]$ | l) $D\left[\ln\left(\frac{\sqrt{x^2 + 1} - x}{\sqrt{x^2 + 1} + x}\right)\right]$ | s) $D[\text{arctg} \sqrt{x}]$ |
| e) $D[\text{sen}\{\cos(\text{sen } x)\}]$ | m) $D\left[\text{arctg}\left(\frac{x - 1}{x + 1}\right)\right]$ | t) $D\left[\ln\left(\frac{1}{1 + x}\right) + \frac{1}{1 + x}\right]$ |
| f) $D\left[\frac{x^3 \cdot 3^{2x}}{e^{2x}}\right]$ | n) $D\left[\frac{x}{\sqrt{a^2 - x^2}}\right]$ | u) $D\left[\ln\left(\frac{\sqrt{x} - 1}{\sqrt{x} + 1}\right)\right]$ |
| g) $D[\text{sen}^3 2x \cdot \cos^2 3x]$ | ñ) $D[\text{arctg}(\text{sen } x)]$ | v) $D[\arcsen(\text{tg } x)]$ |
| h) $D[x^x]$ | o) $D[x^{\ln x}]$ | w) $D[(\text{sen } x)^{2\cos x}]$ |

■ 14. Calcula las derivadas sucesivas que se indican:

- | | | | |
|---------------------------------|---|--|---|
| a) $f(x) = 2^{3x}$
$f'''(x)$ | b) $g(x) = \frac{2}{x - 1}$
$g^{(4)}(x)$ | c) $h(x) = \ln(x + 2)$
$h^{(5)}(x)$ | d) $j(x) = \text{sen } 3x$
$j^{(10)}(x)$ |
|---------------------------------|---|--|---|

■ 15. Obtén las derivadas n -ésimas de las siguientes funciones:

- | | | |
|-----------------------------|--------------------------|---------------------------|
| a) $f(x) = \ln(x - 1)$ | c) $g(x) = e^x + e^{-x}$ | e) $h(x) = \frac{1}{x^2}$ |
| b) $f(x) = \frac{2}{x + 1}$ | d) $g(x) = 3^{-x}$ | f) $h(x) = \cos x$ |

SOLUCIONES

12. Las derivadas quedan:

a) $D[x^2] = 2x$

b) $D[(3x)^{1/3}] = (3x)^{-2/3}$

c) $D[3^x \cdot \ln x] = 3^x \cdot \ln 3 \cdot \ln x + \frac{3^x}{x}$

d) $D\left[\frac{2}{(x^3 - 3x^2)^6}\right] = D[2 \cdot (x^3 - 3x^2)^{-6}] = \frac{-12(3x^2 - 6x)}{(x^3 - 3x^2)^7}$

e) $D\left[\frac{e^x}{x}\right] = \frac{e^x \cdot x - e^x}{x^2} = \frac{e^x(x-1)}{x^2}$

f) $D[\sin 4x] = 4 \cos 4x$

g) $D[x^3 \cdot x^4] = D[x^7] = 7x^6$

h) $D[x \cdot 4^x] = 4^x + 4^x \cdot \ln 4 \cdot x$

i) $D[(e^{2x} + 3)^4] = 8e^{2x} (e^{2x} + 3)^3$

j) $D\left[\frac{1}{\sqrt{4-5x^2}}\right] = \frac{5x}{(4-5x^2)\sqrt{4-5x^2}}$

k) $D\left[\frac{x}{e^x}\right] = \frac{e^x - e^x \cdot x}{e^{2x}} = \frac{e^x(1-x)}{e^{2x}} = \frac{1-x}{e^x}$

l) $D[\sin^4 x] = D[(\sin x)^4] = 4 \cdot \sin^3 x \cdot \cos x$

m) $D[(x^2 - 3)^5] = 10x(x^2 - 3)^4$

n) $D[(x+1)^3 \cdot (x-1)^2] = (x^2 - 1)[5x^2 + 4x - 1]$

ñ) $D[\ln(2 - 3x^2)^4] = D[4 \cdot \ln(2 - 3x^2)] = \frac{-24x}{2 - 3x^2}$

o) $D[(4x+2)\sqrt{4x-2}] = 4 \cdot \sqrt{4x-2} + \frac{4(4x+2)}{2\sqrt{4x-2}} = \frac{24x-4}{\sqrt{4x-2}}$

p) $D[x^2 \cdot 2^x \cdot a^{2x}] = 2x \cdot 2^x \cdot a^{2x} + 2^x \cdot \ln 2 \cdot x^2 \cdot a^{2x} + 2a^{2x} \ln a \cdot x^2 \cdot 2^x$

q) $D[\text{sen } x^4] = 4x^3 \cdot \cos x^4$

13. Las derivadas son:

a) $D[(x - \sqrt{1 - x^2})^3] = 3(x - \sqrt{1 - x^2})^2 \cdot \left(1 - \frac{-2x}{2\sqrt{1 - x^2}}\right) = \frac{6x^2 - 3}{\sqrt{1 - x^2}} (x - \sqrt{1 - x^2})$

b) $D\left[\frac{\cos(x-1)}{\cos(x+1)}\right] = \frac{-\text{sen}(x-1) \cdot \cos(x+1) + \text{sen}(x+1) \cdot \cos(x-1)}{\cos^2(x+1)} = \frac{\text{sen}[(x+1) - (x-1)]}{\cos^2(x+1)} = \frac{\text{sen } 2}{\cos^2(x+1)}$

c) $D[\ln \text{tg}^2 x] = D[2 \cdot \ln(\text{tg } x)] = \frac{2(1 + \text{tg}^2 x)}{\text{tg } x}$

d) $D\left[\sqrt{\frac{1 - \text{sen } x}{1 + \text{sen } x}}\right] = \frac{1}{2\sqrt{\frac{1 - \text{sen } x}{1 + \text{sen } x}}} \cdot \frac{-\cos x(1 + \text{sen } x) - \cos x(1 - \text{sen } x)}{(1 + \text{sen } x)^2} = \frac{-\cos x}{(1 + \text{sen } x)\sqrt{1 - \text{sen}^2 x}} = \frac{-1}{1 + \text{sen } x}$

e) $D[\text{sen}\{\cos(\text{sen } x)\}] = \cos\{\cos(\text{sen } x)\} \cdot [-\text{sen}(\text{sen } x)] \cdot \cos x$

f) $D\left[\frac{x^3 \cdot 3^{2x}}{e^{2x}}\right] = D[x^3 \cdot 3^{2x} \cdot e^{-2x}] = 3x^2 \cdot 3^{2x} \cdot e^{-2x} + x^3 \cdot 3^{2x} \cdot \ln 3 \cdot 2 \cdot e^{-2x} - 2x^3 \cdot 3^{2x} \cdot e^{-2x} = 3^{2x} \cdot e^{-2x}(3x^2 + 2 \ln 3 \cdot x^3 - 2x^3)$

$$g) D[\sin^3 2x \cdot \cos^2 3x] = 6 \sin^2 2x \cdot \cos 2x \cdot \cos^2 3x - 6 \sin^3 2x \cdot \cos 3x \cdot \sin 3x$$

$$h) D[x^x] = x^x [\ln x + 1]$$

$$i) D[x^{\ln x}] = x^{\ln x} \left[\frac{2 \ln x}{x} \right]$$

$$j) D[x^{x^x}] = x^{x^x} \left[x^x \left(\ln^2 x + \ln x + \frac{1}{x} \right) \right]$$

$$k) D[x^{\cos x}] = x^{\cos x} \left[-\sin x \ln x + \frac{\cos x}{x} \right]$$

$$l) D \left[\ln \left(\frac{\sqrt{x^2+1}-x}{\sqrt{x^2+1}+x} \right) \right] =$$

$$= D [\ln \sqrt{x^2+1} - x] - D [\ln(\sqrt{x^2+1} + x)] =$$

$$= \frac{\frac{2x}{2\sqrt{x^2+1}} - 1}{\sqrt{x^2+1} - x} - \frac{\frac{2x}{2\sqrt{x^2+1}} + 1}{\sqrt{x^2+1} + x} = \frac{-2}{\sqrt{x^2+1}}$$

$$= \frac{2\sqrt{x^2+1}}{\sqrt{x^2+1} - x} - \frac{2\sqrt{x^2+1}}{\sqrt{x^2+1} + x} = \frac{-2}{\sqrt{x^2+1}}$$

$$m) D \left[\operatorname{arc\,tg} \left(\frac{x-1}{x+1} \right) \right] =$$

$$= \frac{1}{1 + \left(\frac{x-1}{x+1} \right)^2} \cdot \frac{1(x+1) - 1(x-1)}{(x+1)^2} =$$

$$= \frac{2}{2x^2+2} = \frac{1}{x^2+1}$$

$$= \frac{2}{2x^2+2} = \frac{1}{x^2+1}$$

$$\begin{aligned} \text{n) } D \left[\frac{x}{\sqrt{a^2 - x^2}} \right] &= \frac{1 \cdot \sqrt{a^2 - x^2} - \frac{-2x^2}{2\sqrt{a^2 - x^2}}}{(\sqrt{a^2 - x^2})^2} = \\ &= \frac{a^2}{\sqrt{(a^2 - x^2)^3}} \end{aligned}$$

$$\text{ñ) } D[\text{arc tg}(\text{sen } x)] = \frac{\cos x}{1 + \text{sen}^2 x}$$

$$\text{o) } D [x^{\ln x}] = x^{\ln x} \left[\frac{2 \ln x}{x} \right]$$

$$\begin{aligned} \text{p) } D [(\text{sen } x)^{2 \cos x}] &= \\ &= (\text{sen } x)^{2 \cos x} \left[-2 \text{sen } x \cdot \ln \text{sen } x + \frac{2 \cos^2 x}{\text{sen } x} \right] \end{aligned}$$

$$\text{q) } D [x^{\text{sen } x}] = x^{\text{sen } x} \left[\cos x \cdot \ln x + \frac{\text{sen } x}{x} \right]$$

$$\text{r) } D [(\ln x)^x] = (\ln x)^x \left[\ln(\ln x) + \frac{1}{\ln x} \right]$$

$$\text{s) } D [\text{arctg } \sqrt{x}] = \frac{1}{2\sqrt{x}(1+x)}$$

$$\begin{aligned} \text{t) } D \left[\ln \left(\frac{1}{1+x} \right) + \frac{1}{1+x} \right] &= \\ &= D \left[-\ln(1+x) + \frac{1}{1+x} \right] = \\ &= -\frac{1}{1+x} - \frac{1}{(1+x)^2} = \frac{-2-x}{(1+x)^2} \end{aligned}$$

$$\begin{aligned} \text{u) } D \left[\ln \left(\frac{\sqrt{x}-1}{\sqrt{x}+1} \right) \right] &= D [\ln(\sqrt{x}-1) - \ln(\sqrt{x}+1)] = \\ &= \frac{1}{2\sqrt{x}} - \frac{1}{2\sqrt{x}} = \frac{1}{\sqrt{x}(x-1)} \end{aligned}$$

$$v) D [\text{arc sen } (\text{tg } x)] = \frac{1 + \text{tg}^2 x}{\sqrt{1 - \text{tg}^2 x}}$$

$$w) D [(\text{sen } x)^{2 \cos x}] = (\text{sen } x)^{2 \cos x} \left[-2 \text{sen } x \cdot \ln \text{sen } x + \frac{2 \cos^2 x}{\text{sen } x} \right]$$

14. Quedan:

$$a) f(x) = 2^{3x}; f'(x) = 2^{3x} \cdot \ln 2 \cdot 3; \\ f''(x) = 2^{3x} \cdot (\ln 2 \cdot 3)^2; f'''(x) = 2^{3x} \cdot (3 \cdot \ln 2)^3$$

$$b) g(x) = \frac{2}{x-1}; g'(x) = \frac{-2}{(x-1)^2}; g''(x) = \frac{4}{(x-1)^3} \\ g'''(x) = \frac{-12}{(x-1)^4}; g^{(4)}(x) = \frac{48}{(x-1)^5}$$

$$c) h(x) = \ln(x+2); h'(x) = \frac{1}{x+2}; h''(x) = \frac{-1}{(x+2)^2} \\ h'''(x) = \frac{2}{(x+2)^3}; h^{(4)}(x) = \frac{-6}{(x+2)^4}; h^{(5)}(x) = \frac{24}{(x+2)^5}$$

$$d) j(x) = \text{sen } 3x \\ j'(x) = 3 \cos 3x \\ j''(x) = -9 \text{sen } 3x \\ j'''(x) = -27 \cos 3x \\ j^{(4)}(x) = +81 \text{sen } 3x \\ j^{(5)}(x) = 243 \cdot \cos 3x \\ \dots \\ j^{(10)}(x) = -\text{sen } 3x \cdot (3)^{10}$$

Aparece un grupo de cuatro funciones derivadas diferentes, después se repiten.

15. En cada caso:

$$a) f(x) = \ln(x-1)$$

$$f'(x) = \frac{1}{x-1}; f''(x) = \frac{-1}{(x-1)^2}; f'''(x) = \frac{2}{(x-1)^3} \Rightarrow$$

$$\Rightarrow f^{(n)}(x) = \frac{(-1)^{n+1} \cdot (n-1)!}{(x-1)^n}$$

$$\text{b) } f(x) = \frac{2}{x+1} \quad f'(x) = \frac{-2}{(x+1)^2} \quad f''(x) = \frac{4}{(x+1)^3} \quad f'''(x) = \frac{-12}{(x+1)^4} \quad f^n(x) = \frac{(-1)^n \cdot 2}{(x+1)^{n+1}} n!$$

$$\text{c) } g(x) = e^x + e^{-x}; \quad g'(x) = e^x - e^{-x}; \quad g''(x) = e^x + e^{-x}$$

$$g'''(x) = e^x - e^{-x} \Rightarrow g^{(n)}(x) = e^x + (-1)^n \cdot e^{-x}$$

$$\text{d) } g(x) = 3^{-x}; \quad g'(x) = -3^{-x} \cdot \ln 3; \quad g''(x) = 3^{-x} \cdot (\ln 3)^2; \quad g'''(x) = -3^{-x} \cdot (\ln 3)^3;$$

$$g^n(x) = (-1)^n \cdot 3^{-x} \cdot (\ln 3)^n$$

$$\text{e) } h(x) = \frac{1}{x^2} = x^{-2}$$

$$h'(x) = -2x^{-3}; \quad h''(x) = 6x^{-4}; \quad h'''(x) = -24x^{-5}$$

$$h^{(n)}(x) = (-1)^n \cdot (n+1)! \cdot x^{-(n+2)}$$

$$\text{f) } h(x) = \cos x; \quad h'(x) = -\text{sen } x = \cos\left(x + \frac{\pi}{2}\right); \quad h''(x) = -\cos x = \cos(x + \pi);$$

$$h'''(x) = \text{sen } x = \cos\left(x + \frac{3\pi}{2}\right); \quad h^{iv}(x) = \cos x = \cos\left(x + \frac{4\pi}{2}\right);$$

$$h^n(x) = \cos\left(x + \frac{n\pi}{2}\right).$$

ACTIVIDADES FINALES

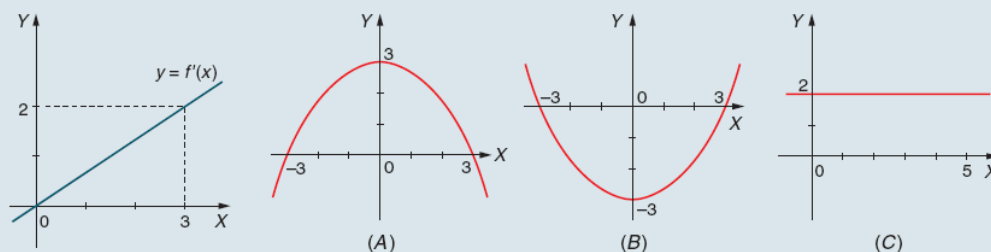
ACCESO A LA UNIVERSIDAD

■ 16. ¿En qué punto o puntos la recta tangente a la curva $y = x^3 + 3x + 4$ tiene la menor pendiente?

■ 17. Se considera la función $f: \mathbb{R} \rightarrow \mathbb{R}$ dada por $f(x) = \frac{x}{1+|x|}$.

- Estudia su derivabilidad.
- Encuentra $f''(x)$.

■ 18. La primera gráfica corresponde a la función derivada de $f(x)$.



- Obtén la expresión analítica de $y = f'(x)$.
- Indica cuál de las gráficas, (A), (B) o (C) corresponde a la función $f(x)$. Justifica la respuesta.

■ 19. a) Estudia para qué valores de a las funciones $f(x) = \begin{cases} x^2 + 1 & \text{si } x \leq a \\ 2ax - 2a + 1 & \text{si } x > a \end{cases}$ son continuas.

- En estos casos dibuja las gráficas de las funciones obtenidas.
- ¿En algún caso f es derivable en a ?

■ 20. Considérese la hipérbola $x \cdot y = 1$. Halla la ecuación de la secante a dicha curva que pasa por los puntos de abscisas $x = 1$ y $x = 2$. Halla también las ecuaciones de las tangentes a la hipérbola que son paralelas a dicha secante.

■ 21. Halla el punto de la curva $y = \ln(1 + x^2)$ en que la tangente es perpendicular a la tangente trazada por el punto de abscisa $x = 1$.

■ 22. Determina los coeficientes a y b de la parábola $y = ax^2 + bx + 2$, sabiendo que la recta tangente en el punto en que $x = 1$ es la recta $y = -2x$.

■ 23. Halla el ángulo que forman las rectas tangentes a las curvas $xy = 1$, $x^2 - y^2 = 1$ en sus puntos de intersección.

■ 24. Determina, de manera razonada, todas las funciones f que sean polinómicas de tercer grado y verifiquen $f'(-1) = f'(1) = 0$. ¿Puede existir alguna de las funciones determinadas anteriormente que verifique $f(0) = f(1) = 0$?

■ 25. Si el lado de un cuadrado aumenta a una velocidad de 3 cm/s, halla la velocidad a la que aumenta su área cuando el lado vale 12 cm. Halla el valor del lado cuando el área crece a 60 cm²/s.



SOLUCIONES

16. Las pendientes de las rectas tangentes a esta curva verifican la relación:

$$y' = 3x^2 + 3 \Rightarrow m = 3x^2 + 3$$

Esta pendiente toma el menor valor posible en el vértice de esta función

$y = 3x^2 + 3$ cuadrática, es decir en $x = 0$. Luego la menor pendiente de la recta tangente esta en $(0, 4)$ y vale 3.

17. Las soluciones en cada caso son:

$$a) \quad f(x) = \begin{cases} \frac{x}{1+x} & \text{si } x \geq 0 \\ \frac{x}{1-x} & \text{si } x < 0 \end{cases}$$

Estudiemos su derivabilidad en $x = 0$ y para ello buscamos las derivadas laterales.

$$\begin{aligned} f'(0^+) &= \lim_{h \rightarrow 0^+} \frac{f(0+h) - f(0)}{h} = \lim_{h \rightarrow 0^+} \frac{\frac{h}{1+h} - 0}{h} = \\ &= \lim_{h \rightarrow 0^+} \frac{h}{h(1+h)} \stackrel{\left(\frac{0}{0}\right)}{=} \lim_{h \rightarrow 0^+} \frac{1}{1+h} = 1 \end{aligned}$$

$$\begin{aligned} f'(0^-) &= \lim_{h \rightarrow 0^-} \frac{f(0+h) - f(0)}{h} = \lim_{h \rightarrow 0^-} \frac{\frac{h}{1-h} - 0}{h} = \\ &= \lim_{h \rightarrow 0^-} \frac{h}{h(1-h)} \stackrel{\left(\frac{0}{0}\right)}{=} \lim_{h \rightarrow 0^-} \frac{1}{1-h} = 1 \end{aligned}$$

La función $f(x)$ es derivable en $x = 0$.

Luego es derivable $\forall x \in \mathbb{R}$.

b) hallamos $f''(x)$ a través de las derivadas laterales.

$$f'(x) = \begin{cases} \frac{1}{(1+x)^2} & \text{si } x \geq 0 \\ \frac{1}{(1-x)^2} & \text{si } x < 0 \end{cases}$$

$$f''(0^+) = \lim_{h \rightarrow 0^+} \frac{f'(0+h) - f'(0)}{h} = \lim_{h \rightarrow 0^+} \frac{\frac{1}{(1+h)^2} - 1}{h} =$$

$$= \lim_{h \rightarrow 0^+} \frac{-2h - h^2 \left(\frac{0}{0}\right)}{h(1+h)^2} = \lim_{h \rightarrow 0^+} \frac{-2-h}{(1+h)^2} = -2$$

$$f''(0^-) = \lim_{h \rightarrow 0^-} \frac{f'(0+h) - f'(0)}{h} = \lim_{h \rightarrow 0^-} \frac{\frac{1}{(1-h)^2} - 1}{h} =$$

$$= \lim_{h \rightarrow 0^-} \frac{2h - h^2 \left(\frac{0}{0}\right)}{h(1-h)^2} = \lim_{h \rightarrow 0^-} \frac{2-h}{(1-h)^2} = 2$$

La función $f''(x)$ no existe en $x = 0$ para todos los demás valores.

$$f''(x) = \begin{cases} \frac{-2}{(1+x)^3} & \text{si } x > 0 \\ \frac{2}{(1-x)^3} & \text{si } x < 0 \end{cases}$$

18. La solución es:

a) expresión analítica de $y = f'(x)$. Es una recta que pasa por los puntos $(0, 0)$ $(3, 2)$, luego su ecuación es $y = \frac{2}{3}x$.

b) como $f'(x) = \frac{2}{3}x \Rightarrow f(x)$ ha de ser una función poli nómica de 2º grado, por lo cual la grafica (C) queda descartada. La grafica (A) corresponde a una función poli nómica de 2º grado, luego su función derivada sería negativa. Por tanto, la solución es la función (B).

19. Los casos quedan:

a) para que la función $f(x)$ sea continua debe cumplirse:

$$\lim_{x \rightarrow a^-} f(x) = \lim_{x \rightarrow a^+} f(x) \Leftrightarrow$$

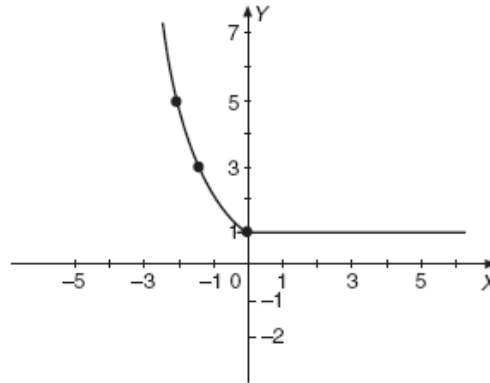
$$\lim_{x \rightarrow a^-} (x^2 + 1) = \lim_{x \rightarrow a^+} (2ax - 2a + 1) \Leftrightarrow$$

$$\Leftrightarrow a^2 + 1 = 2a^2 - 2a + 1 \Leftrightarrow a^2 - 2a = 0 \Leftrightarrow$$

$$\Leftrightarrow a(a - 2) = 0 \Leftrightarrow a = 0 \text{ y } a = 2$$

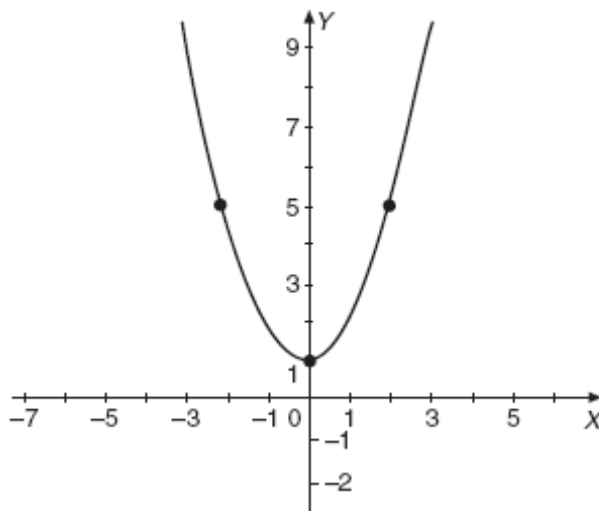
b) en el caso $a = 0$ la función es $f(x) = \begin{cases} x^2 + 1 & \text{si } x \leq 0 \\ 1 & \text{si } x > 0 \end{cases}$

Y su grafica es:



En el caso $a = 2$ la función es $f(x) = \begin{cases} x^2 + 1 & \text{si } x \leq 2 \\ 4x - 3 & \text{si } x > 2 \end{cases}$

Y su grafica es:



c) en el caso $a = 0$ las derivadas laterales de la función en $x = 0$ son:

$$f'(0^-) = 0 \quad \text{y} \quad f'(0^+) = 1$$

Y, por tanto, la función no es derivable.

En el caso $a = 2$ las derivadas laterales de la función en $x = 2$ son:

$$f'(2^-) = 4 \quad \text{y} \quad f'(2^+) = 4$$

Y la función es derivable en $x = 2$. En este caso es derivable en cualquier punto de su dominio.

20. Queda:

La recta secante pasara por los puntos $P(1, 1)$, $Q(2, 1/2)$ y su ecuación es:

$$\frac{x-1}{-1} = \frac{y-1}{1/2} \Rightarrow x + 2y - 3 = 0$$

La pendiente de esta recta es $m = -\frac{1}{2}$ luego las rectas tangentes paralelas a esta tendrán por

$$\text{pendiente } -\frac{1}{2} \Rightarrow y = \frac{1}{x} \Rightarrow y' = -\frac{1}{x^2} \Rightarrow \frac{-1}{x^2} = -\frac{1}{2} \Rightarrow x = \pm\sqrt{2}$$

Las rectas tangentes de pendiente $-\frac{1}{2}$ pasaran por los puntos

$$P\left(\sqrt{2}, \frac{1}{\sqrt{2}}\right) \quad Q\left(-\sqrt{2}, -\frac{1}{\sqrt{2}}\right)$$

Y sus ecuaciones son:

$$y - \frac{1}{\sqrt{2}} = -\frac{1}{2}(x - \sqrt{2})$$

$$y + \frac{1}{\sqrt{2}} = -\frac{1}{2}(x + \sqrt{2})$$

21. Queda:

La recta tangente a la curva en el punto $P(1, 0)$ tiene por pendiente:

$$y' = \frac{2x}{1+x^2} \Rightarrow m = 1$$

La recta perpendicular tendrá por pendiente (-1), por tanto:

$$\frac{2x}{1+x^2} \Rightarrow -1 \Rightarrow 1+x^2+2x=0 \Rightarrow x=-1$$

Por tanto, el punto buscado es $P(-1, \ln 2) \Rightarrow P(-1; 0,7)$

22. La solución es:

La recta tangente en el punto en el cual $x = 1$ pasa por el punto $(1, -2)$ y su pendiente vale (-2) . Por tanto:

$$-2 = a + b + 2 \Rightarrow a + b = -4$$

$$\text{Por otro lado, } f'(1) = -2 \Rightarrow \text{como } f'(x) = 2ax + b \Rightarrow \\ \Rightarrow 2a + b = -2$$

Resolviendo el sistema:

$$\left. \begin{array}{l} a + b = -4 \\ 2a + b = -2 \end{array} \right\} \Rightarrow \left\{ \begin{array}{l} a = 2 \\ b = -6 \end{array} \right.$$

23. Queda:

Las curvas se cortan en los puntos que obtenemos al resolver el sistema:

$$\left. \begin{array}{l} x \cdot y = 1 \\ x^2 - y^2 = 1 \end{array} \right\} \Rightarrow P\left(\sqrt{\frac{1 + \sqrt{5}}{2}}, \sqrt{\frac{-1 + \sqrt{5}}{2}}\right); \\ Q\left(-\sqrt{\frac{1 + \sqrt{5}}{2}}, -\sqrt{\frac{-1 + \sqrt{5}}{2}}\right)$$

Basta con hallar el ángulo que forman las rectas tangentes a las curvas en P, en Q es igual.

Hallamos α_1 que es el ángulo que forma la recta tangente a la curva $x \cdot y = 1$ en el punto P con el eje de abscisas:

$$y = \frac{1}{x} \Rightarrow y' = -\frac{1}{x^2} \Rightarrow \text{tg } \alpha_1 = \frac{-1}{\frac{1 + \sqrt{5}}{2}} = \\ = \frac{-2}{1 + \sqrt{5}} \Rightarrow \alpha_1 = 148^\circ 16' 57''$$

Hallamos α_2 que es el ángulo que forma la recta tangente a la curva $x^2 - y^2 = 1$ en el punto P con el eje de abscisas.

$$y = \sqrt{x^2 - 1} \Rightarrow y' = \frac{x}{\sqrt{x^2 - 1}} \Rightarrow \text{tg } \alpha_2 = \frac{\sqrt{5} + 1}{2} \Rightarrow \\ \Rightarrow \alpha_2 = 58^\circ 16' 57''$$

Luego, el ángulo que forman las rectas tangentes en P vale: $\alpha_1 - \alpha_2 = 90^\circ$

24. Queda:

$$f(x) = ax^3 + bx^2 + cx + d$$

$$f'(x) = 3ax^2 + 2bx + c$$

$$\left. \begin{array}{l} f'(-1) = 3a - 2b + c \Rightarrow 3a - 2b + c = 0 \\ f'(1) = 3a + 2b + c \Rightarrow 3a + 2b + c = 0 \end{array} \right\} \Rightarrow$$

$$\Rightarrow c = -3a; b = 0$$

Las funciones polinómicas de tercer grado que verifican las hipótesis del enunciado son de la forma:

$$f(x) = ax^3 - 3ax + d$$

Para que verifique $f(0) = f(1) = 0$, deberán cumplir:

$$\left. \begin{array}{l} d = 0 \\ a - 3a + d = 0 \end{array} \right\} \Rightarrow \left\{ \begin{array}{l} d = 0 \\ a = 0 \end{array} \right.$$

Luego no existe ninguna función polinómica de tercer grado que verifique estas condiciones, excepto el polinomio nulo.

25. El área de un cuadrado en función del lado l es $A = l^2$.

La variación del área puede venir expresada en la forma:

$$\frac{dA}{dt} = 2l \frac{dl}{dt}$$

Si $l = 12$ cm y $\frac{dl}{dt} = 3$ cm/s, obtenemos:

$$\frac{dA}{dt} = 2 \cdot 12 \text{ cm} \cdot 3 \text{ cm/s} = 72 \text{ cm}^2/\text{s}$$

Si $\frac{dl}{dt} = 3$ cm/s y $\frac{dA}{dt} = 60$ cm²/s, obtenemos:

$$60 \text{ cm}^2/\text{s} = 2 \cdot l \cdot 3 \text{ cm/s} \Rightarrow l = 10 \text{ cm.}$$