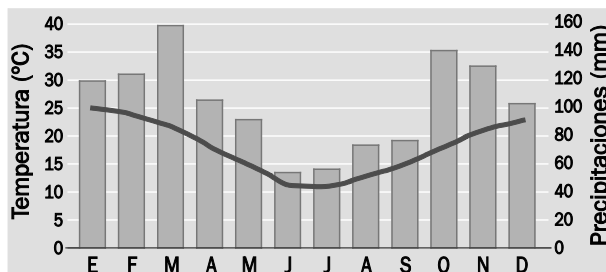


8 Funciones. Propiedades globales

ACTIVIDADES INICIALES

8.I. Este es el climograma correspondiente a la ciudad de Buenos Aires para el año 2009.



¿En qué mes se alcanzan las temperaturas máximas? ¿Y las mínimas? ¿Cuáles son los meses de verano en Argentina?

Las temperaturas máximas se alcanzan en diciembre y enero, y las mínimas, en junio y julio. Las temperaturas varían al revés que en España, de forma que los meses de verano argentinos se corresponden con los de invierno españoles.

8.II. ¿Coinciden los meses más lluviosos con los de tu ciudad?

Respuesta variable, dependiendo de la ciudad.

8.III. ¿Qué tipo de ropa llevará un turista que visite Buenos Aires en enero?

El turista llevará en enero ropa de verano.

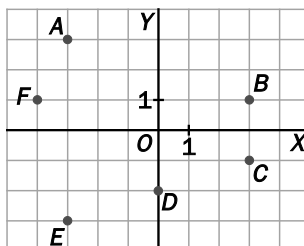
8.IV. Es posible que no tengas a mano los datos de las precipitaciones en tu ciudad. Representa en una gráfica sólo las temperaturas medias en cada mes, utilizando datos aproximados. Compara tu gráfico con el de tus compañeros.

Actividad con los compañeros. La gráfica variará según la ciudad.

ACTIVIDADES PROPUESTAS

8.1. Actividad resuelta.

8.2. Escribe las coordenadas de los puntos que aparecen en la figura.



$A(-3, 3)$

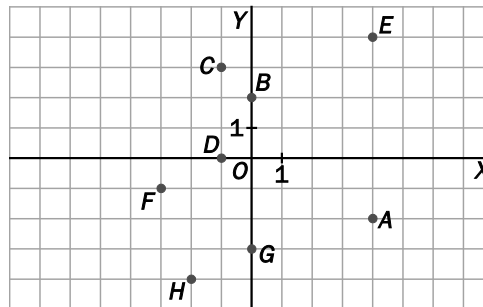
$B(3, 1)$

$C(3, -1)$

$D(-3, -3)$

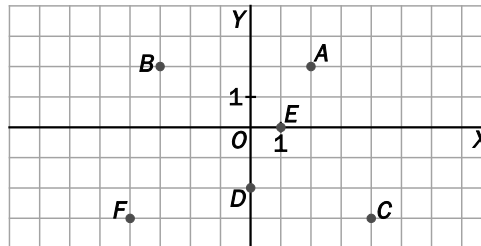
8.3. (TIC) Representa estos puntos en unos ejes de coordenadas.

- | | | | |
|------------|------------|-------------|-------------|
| $A(4, -2)$ | $C(-1, 3)$ | $E(4, 4)$ | $G(0, -3)$ |
| $B(0, 2)$ | $D(-1, 0)$ | $F(-3, -1)$ | $H(-2, -4)$ |



8.4. (TIC) Representa estos puntos en unos ejes de coordenadas indicando su cuadrante.

- | | | |
|------------|------------|-------------|
| $A(2, 2)$ | $C(4, -3)$ | $E(1, 0)$ |
| $B(-3, 2)$ | $D(0, -2)$ | $F(-4, -3)$ |



Primer cuadrante: $A(2, 2)$

Segundo cuadrante: $B(-3, 2)$

Tercer cuadrante: $F(-4, -3)$

Cuarto cuadrante: $C(4, -3)$

El punto $D(0, -2)$ está sobre el eje de ordenadas.

El punto $E(1, 0)$ está sobre el eje de abscisas.

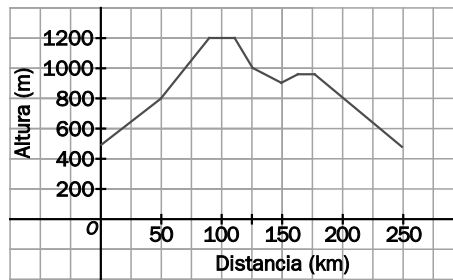
8.5. ¿Verdadero o falso?

- $A(-3, -1)$ pertenece al 3.^{er} cuadrante.
 - $B(2, 0)$ está sobre el eje de ordenadas.
 - En el punto $C(4, -2)$, el 4 es la abscisa.
 - Los puntos $D(-1, 1)$ y $E(-4, -2)$ están en el 2.^o cuadrante.
- Verdadero.
 - Falso, está sobre el de abscisas.
 - Verdadero.
 - Falso. D está en el 2.^o cuadrante, y E , en el 3.^o

8.6. Actividad interactiva.

8.7. Actividad resuelta.

8.8. La gráfica representa una etapa ciclista. A cada distancia al punto de salida le corresponde una determinada altitud.



- a) ¿Cuál es la variable independiente?
 - b) ¿Cuándo se alcanza la mayor altitud?
 - c) ¿Cuántos kilómetros se recorren en la etapa?
- a) La variable independiente es la distancia al punto de salida.
 - b) La mayor altitud se alcanza entre los 88 y 112 km de distancia al punto de salida.
 - c) Se recorren 250 km en la etapa.

8.9. Escribe la fórmula del perímetro de un triángulo equilátero en función de sus lados.

El perímetro P se obtiene multiplicando por 3 la longitud x del lado; por tanto: $P = 3x$.

8.10. En la tabla se representa la temperatura de una persona a lo largo de un día.

Hora	0	4	8	12	16	20	24
Temperatura (°C)	38	36	36,5	36	38	39	38

- a) ¿Cuál es la variable dependiente?
 - b) ¿Cuándo varió más la temperatura?
- a) La variable dependiente es la temperatura (°C).
 - b) La máxima variación se produjo entre las 0 y las 4 horas, y entre las 12 y las 16 horas.

8.11. En la tabla tienes el tiempo que se tarda en hacer un trabajo según los alumnos que participen.

Tiempo (horas)	6	3	2	1,5	1,2	1
N.º de alumnos	1	2	3	4	5	6

Si solo se dispone de media hora para preparar el trabajo, ¿cuántos alumnos deberían participar?

La relación entre las variables es inversamente proporcional. Por tanto, si para hacer el trabajo en 1 hora participan 6 alumnos, para la mitad de tiempo, media hora, participará el doble de alumnos, 12.

8.12. Actividad interactiva.

8.13. Actividad resuelta.

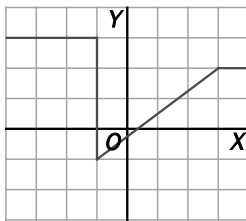
8.14. Actividad resuelta.

8.15. Di si las siguientes relaciones son funciones.

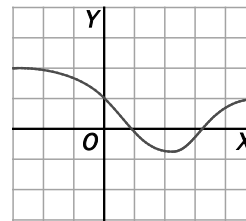
- a) El espacio entre dos ciudades y el tiempo que tarda un tren en ir de una a otra.
- b) La duración de un partido de fútbol y los goles que se marcan.
- c) La edad de un árbol y el número de anillos de su tronco.
- a) Sí es una función porque para cada valor de la distancia entre las dos ciudades hay un único valor del tiempo que tarda el tren en ir de una a otra.
- b) No, porque para un valor de la duración de los partidos de fútbol, el número de goles no es único.
- c) Sí, porque para cada valor de la edad hay un único valor del número de anillos del tronco.

8.16. Indica razonadamente si las siguientes gráficas representan funciones.

a)



b)

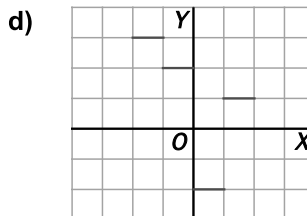
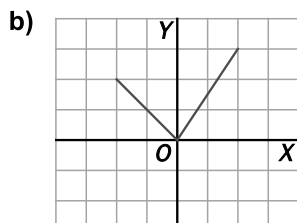
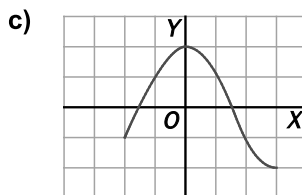
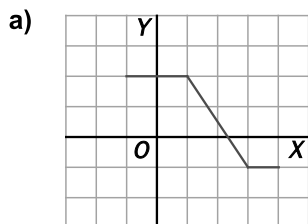


- a) No es una función porque para $x = -1$, la variable y toma infinitos valores.
- b) Sí es una función porque para cada valor de x hay un único valor de y .

8.17. Una función asigna a cada número entero el resultado de multiplicarlo por 4 y restarle 1.

- a) Escribe la fórmula general de dicha función.
- b) Calcula la imagen de 7.
- c) ¿Para qué número entero se obtiene una imagen de 11?
- a) $f(x) = 4 \cdot x - 1$
- b) $f(7) = 4 \cdot 7 - 1 = 28 - 1 = 27$
- c) $4x - 1 = 11 \Rightarrow x = 3$

8.18. Indica el dominio y el recorrido de las siguientes funciones.



a) $D(f) = [-1, 4], R(f) = [-1, 2]$

c) $D(f) = [-2, 3], R(f) = [-2, 2]$

b) $D(f) = [-2, 2], R(f) = [0, 3]$

d) $D(f) = [-2, 2], R(f) = \{-2, 1, 2, 3\}$

8.19. Con una cuerda de 40 centímetros se construyen triángulos isósceles, de modo que si variamos la medida de la base, variará también la medida de los lados iguales.

a) Completa una tabla de valores para distintas medidas de la base del triángulo.

b) Escribe la fórmula general de la función.

c) Indica el dominio y el recorrido de la función.

a)

Base	1	5	8	10	15	19
Lados iguales	19,5	17,5	16	15	12,5	10,5

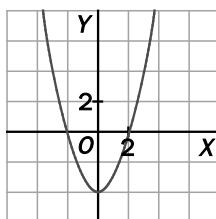
b) Si x es la medida de la base e y la de los lados desiguales, utilizando la fórmula del perímetro se

obtiene: $x + 2y = 40 \Rightarrow y = 20 - \frac{x}{2}$

c) $D(f) = (0, 20), R(f) = (10, 20)$.

8.20. Actividad resuelta.

8.21. Indica las coordenadas de los puntos en los que la función corta a los ejes.

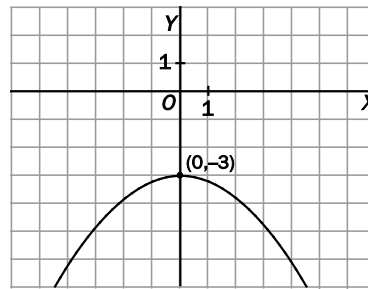


Cortes con el eje de abscisas: $(-2, 0)$ y $(0, 2)$

Corte con el eje de ordenadas: $(0, -4)$

8.22. Representa una función que corte al eje Y en el punto (0, -3) y que no corte al eje de abscisas.

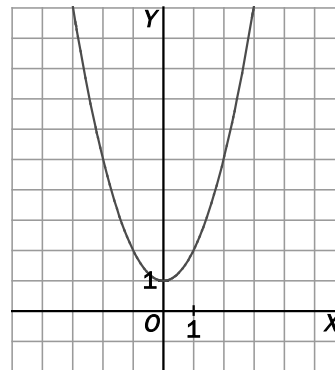
Respuesta abierta. Una de ellas puede ser:



8.23. (TIC) Representa gráficamente la función definida por $f(x) = x^2 + 1$, siendo x cualquier número.

En primer lugar se construye una tabla, y a continuación se representan los puntos en una gráfica y se unen:

x	y
-3	10
-2	5
-1	2
0	1
1	2
2	5
3	10



8.24. (TIC) Representa los puntos de esta tabla.

N.º de fotocopias	1	2	3	4
Precio (euros)	0,05	0,10	0,15	0,20

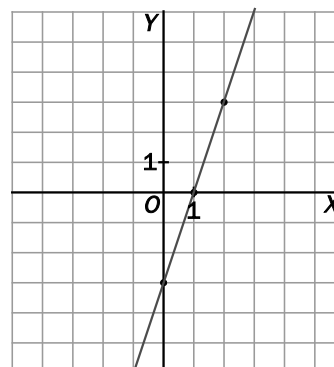
- Indica si hay que unir los puntos o no.
- ¿Cuánto pagarías por 7 fotocopias?
 - No tiene sentido unir los puntos, ya que el número de fotocopias ha de ser entero.
 - Por 7 fotocopias se pagarían $0,05 \cdot 7 = 0,35$ €.

8.25. (TIC) Escribe la función que asocia a cada número entero su triple menos 3 y represéntala.

La fórmula de la función es $f(x) = 3x - 3$.

La tabla de valores asociada a ella y su gráfica son:

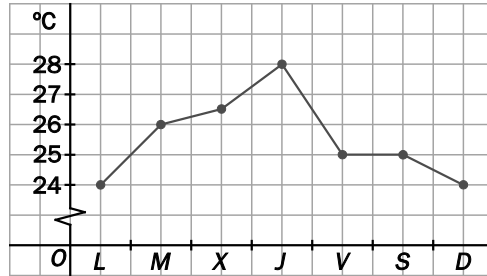
x	y
-2	-9
-1	-6
0	-3
1	0
2	3



8.26. (TIC) En la tabla se representa la temperatura de una ciudad a lo largo de una semana.

Día	L	M	X	J	V	S	D
Temperatura (°C)	24	26	26,5	28	25	25	24

Haz la representación gráfica de la tabla.

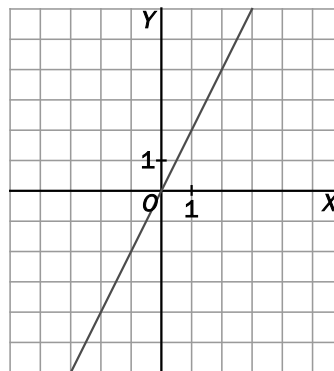


8.27. (TIC) Copia y completa en tu cuaderno esta tabla.

x	-3	-2	-1	0	1	2	3
y		-4		0			6

Escribe la función de la tabla, que asocia a cada número su doble y represéntala.

x	y
-3	-6
-2	-4
-1	-2
0	0
1	2
2	4
3	6

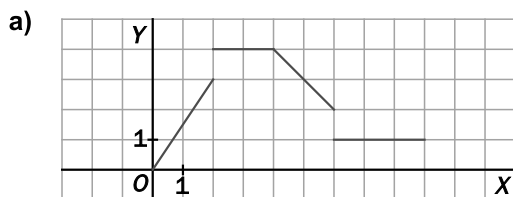


8.28. ¿En cuántos puntos puede cortar la gráfica de una función al eje Y? ¿Y al eje X?

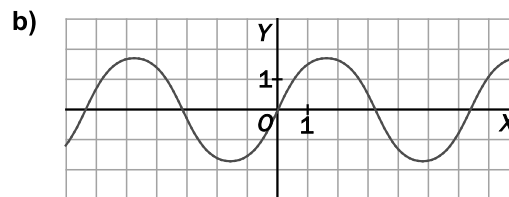
La gráfica de una función solo puede cortar una vez el eje Y, ya que si lo cortara en dos puntos, existirían dos puntos de la gráfica con la misma coordenada x , $x = 0$.

No hay límite para el número de veces que una gráfica de una función puede cortar el eje X.

8.29. Explica si las siguientes gráficas corresponden a funciones continuas o discontinuas, y en este caso, señala los puntos de discontinuidad.



a) Es discontinua en $x = 2$ y en $x = 6$.



b) Es continua.

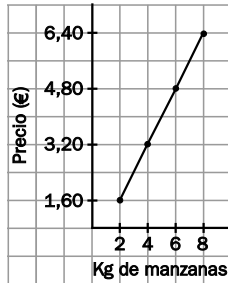
8.30. (TIC)

a) Representa gráficamente la función que viene dada por la siguiente tabla

kg de manzanas	2	4	6	8
Precio en euros	1,60	3,20	4,80	6,40

b) ¿Tiene sentido unir los puntos?

a)



b) Sí tiene sentido unir los puntos, ya que se pueden adquirir cantidades de manzanas que no sean kilos enteros; por ejemplo, 3,57 kg.

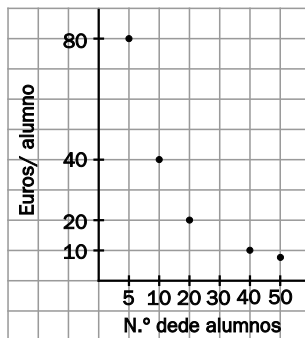
8.31. (TIC) Un grupo de alumnos va a alquilar un autobús para ir de excursión por 400 euros. El precio que debe pagar cada alumno depende de cuántos vayan a la excursión, según la siguiente tabla.

N.º de alumnos	5	10	20	40	50
Euros/alumno	80	40	20	10	8

a) Representa la función correspondiente.

b) ¿Tiene sentido unir los puntos?

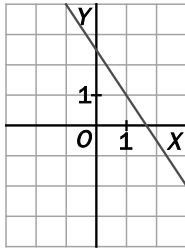
a)



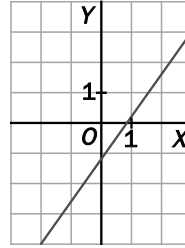
b) No tiene sentido unir los puntos, puesto que el número de alumnos ha de ser entero. No tiene sentido hablar de 1,5 alumnos, por ejemplo.

8.32. Indica si son crecientes o decrecientes las funciones siguientes.

a)



b)



- a) Decreciente: a medida que aumenta la variable x , disminuye la variable y .
- b) Creciente: a medida que aumenta la variable x , aumenta la variable y .

8.33. Explica si son crecientes o decrecientes las funciones asociadas a las siguientes situaciones.

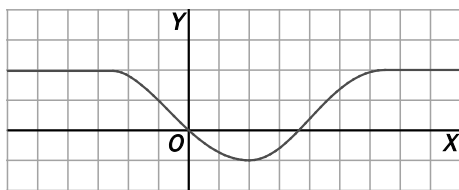
a) El precio de una llamada telefónica según su duración.

b) La gasolina que contiene el depósito de un coche según los kilómetros recorridos.

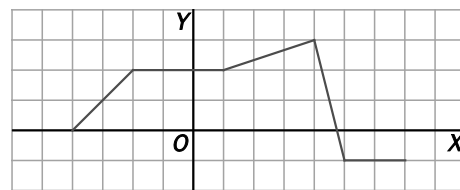
- a) La variable independiente es la duración de la llamada. La variable dependiente, el precio de la misma. A medida que aumenta la duración de la llamada, aumenta su precio, por lo que la función es creciente.
- b) La variable independiente es el número de kilómetros recorridos. La variable dependiente, la gasolina que contiene el depósito. A medida que aumenta el número de kilómetros recorridos, disminuye la gasolina que contiene el depósito, por lo que la función es decreciente.

8.34. Describe para qué valores las siguientes funciones son crecientes, decrecientes y constantes.

a)

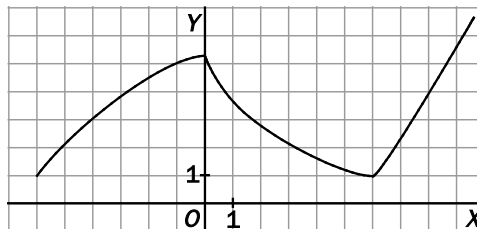


b)



- a) Es creciente entre $x = 2$ y $x = 6$. Decreciente entre $x = -2$ y $x = 2$.
Y constante entre $x = -5$ y $x = -2$ y entre $x = 6$ y $x = 9$.
- b) Es creciente entre $x = -4$ y $x = 1$ y entre $x = 1$ y $x = 4$. Decreciente entre $x = 4$ y $x = 5$.
Y constante entre $x = -2$ y $x = 1$ y entre $x = 5$ y $x = 7$.

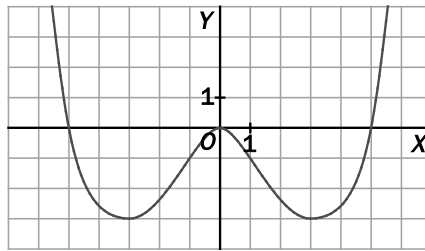
8.35. (TIC) Dibuja una función continua que solo sea decreciente entre $x = 0$ y $x = 6$.



8.36. Actividad resuelta.

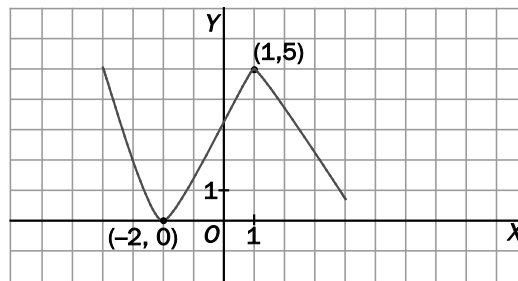
8.37. a) Señala los máximos y los mínimos de la siguiente función.

b) ¿Qué valor toma la función en dichos puntos?

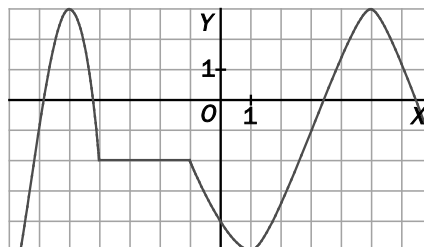


- a) La función presenta un mínimo en $x = -3$, un máximo en $x = 0$ y un mínimo en $x = 3$.
- b) En $x = -3$, $y = -3$, en $x = 0$, $y = 0$, y en $x = 3$, $y = -3$

8.38. Dibuja la gráfica de una función continua que presente un mínimo en el punto de coordenadas $(-2, 0)$ y un máximo en $(1, 5)$.

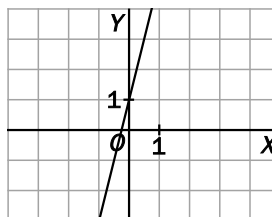


8.39. Escribe las coordenadas de los máximos y los mínimos de la siguiente función.



- Máximos: $(-5, 3)$, y $(5, 3)$
- Mínimos: $(1, -6)$

8.40. Dibuja la gráfica de una función continua que no tenga máximos ni mínimos.



8.41. Actividad interactiva.

8.45. Indica el cuadrante de cada punto.

- a) $A(-2, -5)$
- b) $B(1, 2)$
- a) Tercer cuadrante
- b) Primer cuadrante
- c) $C(5, 0)$
- d) $D(-6, 8)$
- c) Sobre el eje X
- d) Segundo cuadrante

8.46. Dado el punto $A(-3, 6)$, escribe las coordenadas de un punto B que tenga como abscisa el doble que A y esté sobre el eje de abscisas.

La abscisa es $x = 2 \cdot (-3) = -6$.

La ordenada ha de ser 0 para que esté sobre el eje X .

El punto es $B(-6, 0)$.

Fórmulas, tablas y gráficas

8.47. La siguiente gráfica muestra cómo varía la longitud de la sombra de un árbol a distintas horas del día.



- a) ¿A qué hora la sombra fue menor?
- b) ¿Cuánto medía la sombra a las 19.30?
- c) ¿A qué horas la sombra mide lo mismo?
- a) Entre las 14 y las 15 horas
- b) 200 cm
- c) Entre las 14 y las 15 horas

8.48. Escribe la fórmula asociada a la tabla.

x	-2	-1	0	1	2	6
y	-6	-3	0	3	6	18

La función asocia a cada número su triple; por tanto, la fórmula es: $f(x) = 3x$.

8.49. La siguiente tabla recoge dimensiones de rectángulos de 28 metros de perímetro.

Base (m)	2	2,5		7	9		10
Altura (m)			9		5	4,5	

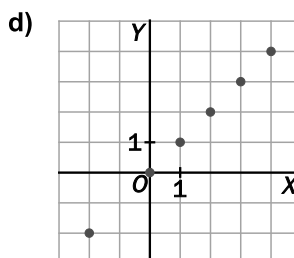
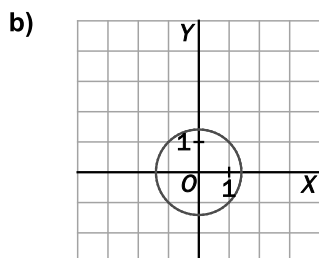
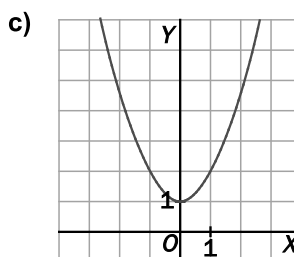
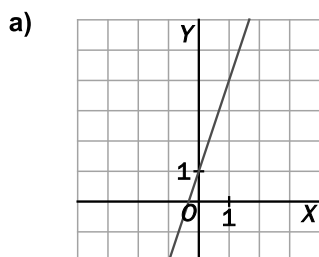
- a) Copia y completa la tabla en tu cuaderno.
- b) ¿Algún rectángulo es un cuadrado?
- a) Utilizando la fórmula del perímetro de un rectángulo, $28 = 2 \cdot B + 2 \cdot A$, se obtiene:

Base (m)	2	2,5	5	7	9	9,5	10
Altura (m)	12	11,5	9	7	5	4,5	4

- b) El rectángulo que tiene 7 m de base y 7 m de altura es un cuadrado.

Concepto de función. Representación gráfica

8.50. Indica cuáles de las siguientes gráficas representan una función y cuáles no.



- a) Es función.
- b) No es función.
- c) Es función.
- d) Es función.

8.51. (TIC) Calcula las imágenes de las siguientes funciones en los puntos que se indican.

- a) $f(x) = 5x + 4$ $x = 2$
- b) $f(x) = 3x(x - 5)$ $x = 5$
- a) $f(2) = 14$
- b) $f(5) = 0$
- c) $f(x) = \frac{x+3}{x^2}$ $x = -3$
- d) $f(x) = -x^2$ $x = -1$
- c) $f(-3) = 0$
- d) $f(-1) = -1$

8.52. Da un ejemplo de una relación entre dos magnitudes que sea una función. Identifica la variable dependiente y la independiente.

Para la magnitud que has elegido como variable independiente, busca otra magnitud, de forma que la relación entre ellas no sea una función.

La relación entre el tiempo transcurrido y el espacio recorrido por un ciclista que se mueve a velocidad constante es una función. La variable independiente es el tiempo transcurrido, y la dependiente, el espacio recorrido por el ciclista.

La relación entre el tiempo transcurrido y las temperaturas en cinco plazas de una ciudad.

8.53. (TIC) Calcula el valor de la variable independiente para el valor cero de la variable dependiente en:

a) $y = x(x - 2)$

b) $y = 3x(x + 1)$

c) $y = \frac{x - 2}{5}$

a) $0 = x(x - 2) \Rightarrow x = 0; x - 2 = 0 \Rightarrow x = 0; x = 2$

b) $0 = 3x(x + 1) \Rightarrow 3x = 0; x + 1 = 0 \Rightarrow x = 0; x = -1$

c) $0 = \frac{x - 2}{5} \Rightarrow x - 2 = 0 \Rightarrow x = 2$

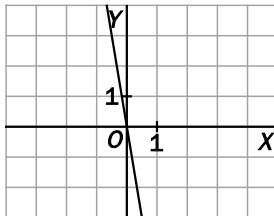
8.54. (TIC) Dibuja las gráficas de las siguientes funciones con la ayuda de tablas de valores.

a) $y = -6x$

b) $y = 4x + 1$

a)

x	y
-1	6
0	0
1	-6

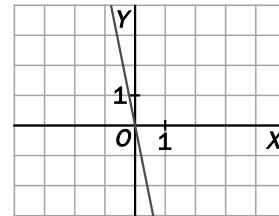


c) $y = -5x$

d) $y = 2 - 3x$

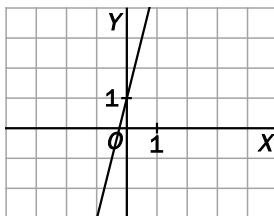
c)

x	y
-1	5
0	0
1	-5



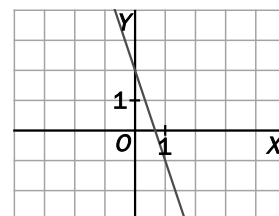
b)

x	y
-1	-3
0	1
1	5



d)

x	y
-1	5
0	2
1	-1



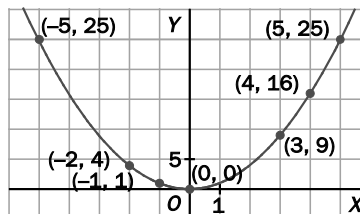
8.55. Copia y completa en tu cuaderno la tabla de la función que relaciona cada número entero con su cuadrado.

x	-5	-2	-1	0	3	4
y						

- a) Representála gráficamente
- b) Razona si se pueden unir los puntos obtenidos
- c) Escribe una fórmula para dicha función.

a)

x	-5	-2	-1	0	3	4
y	25	4	1	0	9	16



- b) Los puntos se pueden unir, ya que cualquier número real tiene cuadrado.
- c) La fórmula es $f(x) = x^2$.

8.56. (TIC) El producto de dos números naturales es 36.

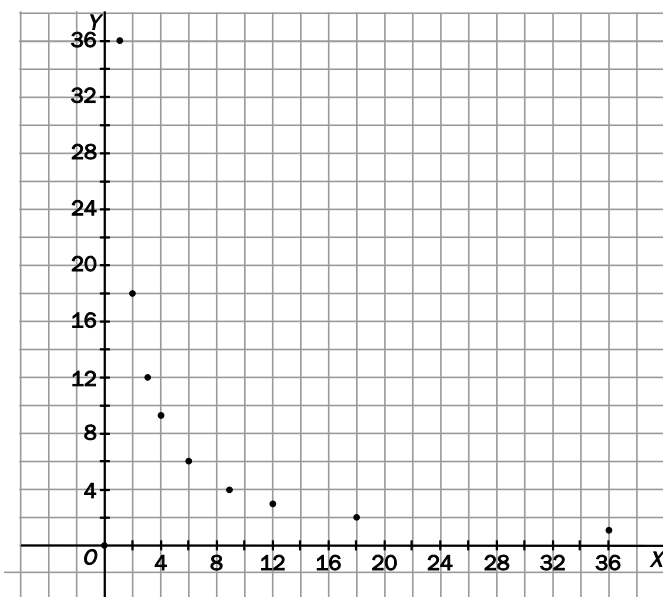
- a) Escribe la función correspondiente.
- b) Forma la tabla de valores.
- c) Representa gráficamente la función.
- d) ¿Qué números forman parte del dominio?
- e) ¿Qué números forman parte del recorrido?

a) $x \cdot y = 36 \Rightarrow y = \frac{36}{x}$

b)

x	1	2	3	4	6	9	12	18	36
y	36	18	12	9	6	4	3	2	1

c)



No se deben unir los puntos, ya que las variables solo pueden tomar valores naturales y que sean divisores de 36.

- d) El dominio lo forman todos los divisores de 36.
- e) El recorrido coincide con el dominio: los divisores de 36.

8.57. (TIC) Las temperaturas se miden en grados Celsius o en grados Fahrenheit.

La función para obtener la temperatura en grados Fahrenheit (°F) a partir de grados Celsius (°C) es: $y = 1,8x + 32$.

- a) ¿Cuál es la variable independiente?
- b) Copia y completa la siguiente tabla.

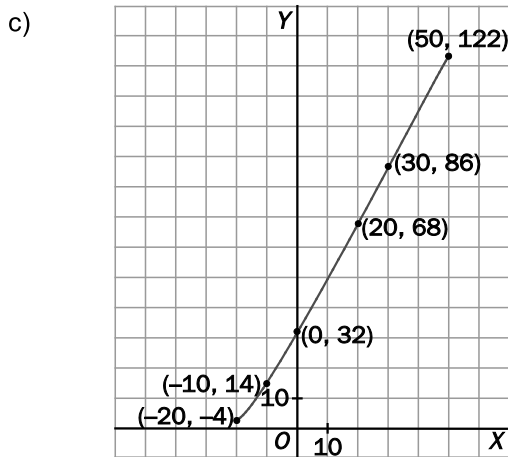
x	-20	-10	0	20	30	50
y						

- c) Haz la representación gráfica de la función.
- d) ¿Qué temperatura corresponde en °C a 50 ° F?

a) La variable independiente son los grados centígrados, representados por la x.

b)

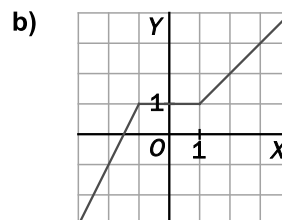
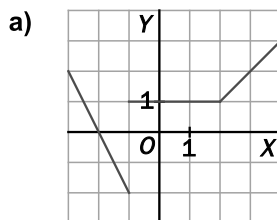
x	-20	-10	0	20	30	50
y	-4	14	32	68	86	122



d) Se verifica que $1,8x + 32 = 50 \Rightarrow x = \frac{50 - 32}{1,8} = 10 \text{ °C}$

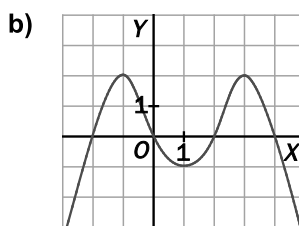
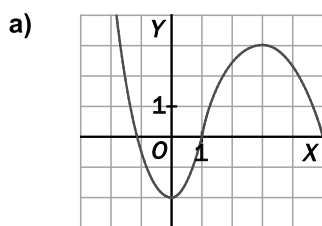
Propiedades globales de las funciones

8.58. Razona cuál de las siguientes funciones es continua y cuál es discontinua, y describe su crecimiento.



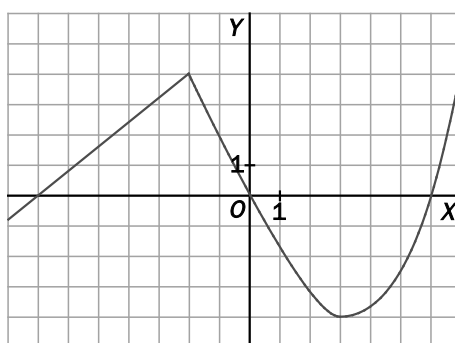
- a) Discontinua en $x = -1$. Decrece hasta $x = -1$, es constante entre $x = -1$ y $x = 2$, y crece de $x = 2$ en adelante.
- b) Continua. Crece hasta $x = -1$, es constante entre $x = -1$ y $x = 1$, y crece de $x = 1$ en adelante.

8.59. Señala los máximos y los mínimos de las siguientes funciones.



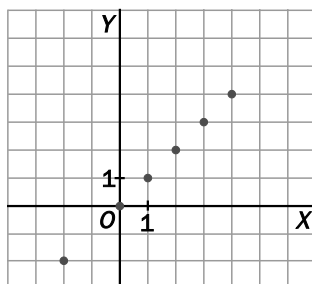
- a) La función tiene un mínimo en $x = 0$ y un máximo en $x = 3$.
- b) La función tiene un máximo en $x = -1$, un mínimo en $x = 1$ y otro máximo en $x = 3$.

8.60. Observa la siguiente gráfica.



- a) ¿Es una función continua o discontinua?
 - b) ¿Cuáles son las coordenadas de los puntos de corte con el eje de abscisas?
 - c) ¿En qué puntos corta al eje de ordenadas?
 - d) Si tiene máximos y mínimos, indica sus coordenadas.
 - e) Describe el crecimiento y el decrecimiento de la función.
- a) Es una función continua.
 - b) Los puntos de corte con el eje de abscisas son: $A(-7, 0)$, $O(0, 0)$, $B(6, 0)$.
 - c) El punto de corte con el eje de ordenadas es el origen $O(0, 0)$.
 - d) Tiene un máximo en $C(-2, 4)$ y un mínimo en $D(3, -4)$.
 - e) La función es creciente hasta $x = -2$, decreciente desde $x = -2$ hasta $x = 3$ y creciente de $x = 3$ en adelante.

8.61. Dibuja una función discontinua que sea siempre creciente.



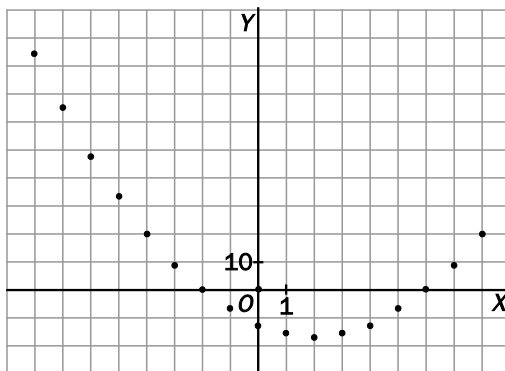
8.62. (TIC) Una función transforma cada número entero, n , en otro mediante la fórmula $f(n) = n^2 - 4n - 12$.

- a) Elabora una tabla con todos los valores de n comprendidos entre -8 y 8 .
- b) Representa la función con los datos de la tabla. ¿Es continua?
- c) ¿En qué puntos corta los ejes?
- d) Describe el crecimiento y el decrecimiento de la función.
- e) Indica cuáles son los valores máximos y mínimos que toma la función.

a)

n	-8	-7	-6	-5	-4	-3	-2	-1	0	1	2	3	4	5	6	7	8
$f(n)$	84	65	48	33	20	9	0	-7	-12	-15	-16	-15	-12	-7	0	9	20

b)



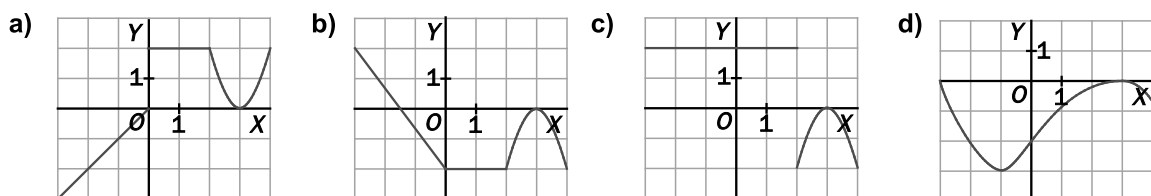
- c) La función no es continua, ya que solo asigna valores a los números enteros.
- d) La función es decreciente hasta $x = 2$ y creciente de $x = 2$ en adelante.
- e) Entre -8 y 8 , la función toma su valor máximo en $x = -8$, donde $y = 84$. La función toma su valor mínimo en $x = 2$, donde $y = -16$.
- f) La función corta el eje de ordenadas en $(0, -12)$ y el eje de abscisas en $(-2, 0)$ y $(6, 0)$.

8.63. De una función continua sabemos que.

Corta al eje de abscisas en el punto $(3, 0)$, que además es un máximo de la función.

Es constante entre $x = 0$ y $x = 2$.

¿Cuál de las siguientes gráficas corresponde a una función de estas características?



Se trata de la función del apartado b.

PROBLEMAS

8.64. Dos botes de tomate frito cuestan 1,80 euros.

- a) ¿Cuál es la fórmula de la función que relaciona el precio en euros con el número de botes de tomate comprados?
 - b) ¿Cuánto costarán 8 botes?
 - c) ¿Cuántos podrás comprar con 3,60 euros?
- a) Cada bote de tomate cuesta $1,80 : 2 = 0,90$ €. Para calcular cuántos botes se pueden comprar con una determinada cantidad de dinero, es necesario dividir dicha cantidad por 0,90. Por tanto, la fórmula es $f(x) = \frac{x}{0,90}$.
- b) 8 botes costarán $0,90 \cdot 8 = 7,20$ €.
- c) $f(3,24) = \frac{3,24}{0,90} = 3,6$. Se pueden comprar 3 botes.

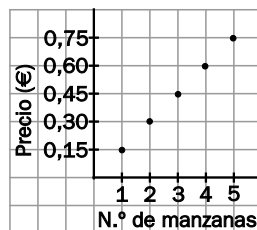
8.65. (TIC) En una frutería se venden las frutas por piezas en lugar de por kilogramos. Cada manzana cuesta 0,35 euros.

- a) Haz una tabla de valores que exprese el precio de la compra si se llevan 1, 2, 3, 4 o 5 manzanas
- b) Representa gráficamente la función.
- c) ¿Es continua?
- d) ¿Cuál es su dominio? ¿Y su recorrido?

a)

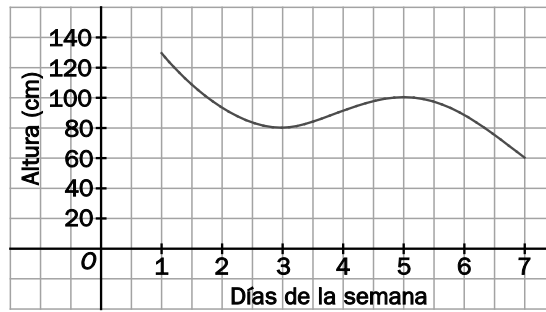
Número de manzanas	1	2	3	4	5
Precio (€)	0,15	0,30	0,45	0,60	0,75

- b) No se deben unir los puntos entre sí, ya que las manzanas solo se venden por piezas enteras.



- c) Como no se deben unir los puntos, la función no es continua.
- d) El dominio lo forman todos los números naturales.
El recorrido, todos los números que se obtienen multiplicando los naturales por 0,35.

8.66. La siguiente gráfica muestra la altura del agua en un depósito a lo largo de una semana.



- a) ¿Qué día alcanzó la máxima altura? ¿Cuál fue?
 - b) ¿Cuándo alcanzó la mínima altura? ¿Cuál fue?
 - c) ¿Entre qué días creció el nivel? ¿En cuáles decreció?
 - d) Si el estudio hubiera durado más días, y la función alcanzase el eje X en el punto (9, 0), ¿qué significado tendría el punto de corte?
- a) La máxima altura se alcanzó el primer día. Fue de 130 cm.
 - b) La mínima altura se alcanzó el séptimo día. El nivel del agua fue de 60 cm.
 - c) El nivel creció entre el 3.º y el 5.º día, y decreció del 1.º al 3.º y del 5.º al 7.º día.
 - d) Significaría que el noveno día se habría acabado completamente el agua del depósito.

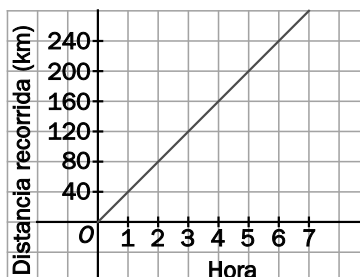
8.67. (TIC) Un ciclista recorre 280 kilómetros a velocidad constante de 40 kilómetros por hora.

- a) Haz una tabla que exprese la duración del viaje.
- b) Escribe la función asociada a la tabla.
- c) Representa gráficamente la función.

a)

Hora	0	2	4	6	7
Distancia recorrida (km)	0	80	160	240	280

- b) Cada hora, el ciclista recorre 40 km. Por tanto, en x horas recorre 40x kilómetros. La fórmula que indica la distancia recorrida en función del tiempo (en horas) transcurrido es $f(x) = 40 \cdot x$.
- c) Puesto que el ciclista tarda $280 : 40 = 7$ horas en realizar el recorrido completo, la gráfica no debe tener valores de x mayores de 7.



8.68. Para pasar de centímetros a pulgadas se multiplica por 2 y se divide entre 5.

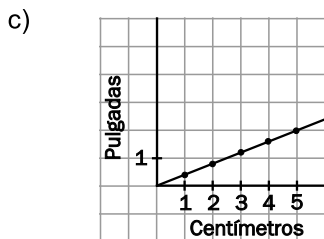
Si x representa el número de centímetros e y el de pulgadas:

- a) Escribe y en función de x
- b) Forma una tabla de valores
- c) Representa gráficamente los valores de la tabla.
- d) ¿Se pueden unir los puntos?

a) $y = \frac{2x}{5}$

b)

Cm	1	2	3	4	5
Pulgadas	0,4	0,8	1,2	1,6	2 ^{c)}



- d) Tiene sentido unir los puntos, ya que los valores seleccionados para formar la tabla son aleatorios, no necesariamente se han de transformar centímetros enteros.

8.69. (TIC) Dos compañías de teléfonos ofertan las siguientes condiciones en sus llamadas locales.

	Establecimiento de llamada	Precio por minuto
COMPAÑÍA A	0,02 €	0,03 €
COMPAÑÍA B	0,03 €	0,02 €

- a) Escribe la función que relaciona el coste de una llamada con su duración en A y en B.
- b) ¿Cuál es la variable independiente?
- c) Representálas en los mismos ejes.
- d) ¿A partir de qué momento resulta más rentable la compañía B?

a) Compañía A: $f(x) = 0,02 + 0,03 \cdot x$ Compañía B: $g(x) = 0,03 + 0,02 \cdot x$

- b) La variable independiente es el tiempo de duración de la llamada.

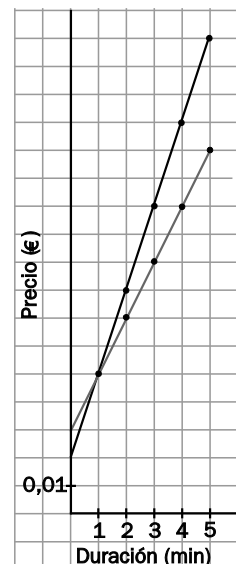
c) Compañía A

Duración (min)	1	2	3	4	5
Precio (€)	0,05	0,08	0,11	0,14	0,17

Compañía B

Duración (min)	1	2	3	4	5
Precio (€)	0,05	0,07	0,09	0,11	0,13

- d) Transcurrido el primer minuto resulta más rentable la compañía B: la gráfica de B está por debajo de la gráfica de A a partir de $x = 1$.



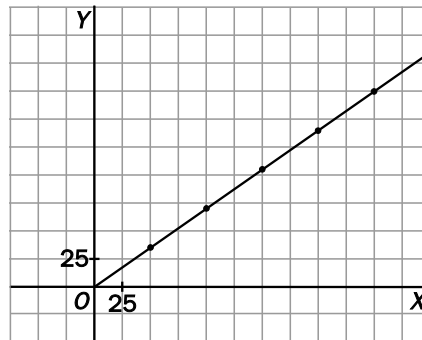
8.70. (TIC) En una tienda de deportes se ofertan todos sus artículos con un 30 % de descuento.

- a) Encuentra una fórmula que exprese el precio de cada uno de ellos después de hacer el descuento.
- b) Representa la función gráficamente teniendo en cuenta que el artículo más caro antes de la oferta costaba 250 euros.

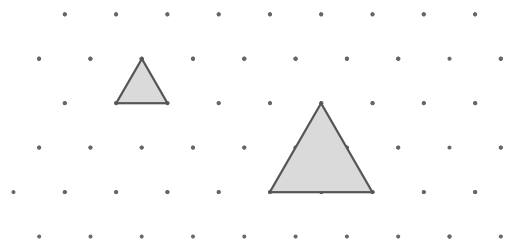
a) Como los artículos tienen un 30 % de descuento, el precio final es el 70 % del precio inicial. La función que transforma el precio inicial en el final es $f(x) = 0,70 \cdot x$.

b)

x	50	100	150	200	250
f(x)	35	70	105	140	175



8.71. Sobre un geoplano triangular como el representado en la figura se construyen triángulos de lado 1 unidad, 2 unidades, 3 unidades, etc.



- a) Calcula el número de puntos por los que pasa el contorno de cada triángulo.
- b) Copia y completa la siguiente tabla.

Unidades lineales de lado	1	2	3	4
N.º de puntos por los que pasa el contorno	3	6		

c) Encuentra la función que expresa el número de puntos por los que pasa el contorno de cada triángulo, en función de las unidades de lado.

a) El triángulo de lado 1 pasa por 3 puntos. El triángulo de lado 2 pasa por 6 puntos.

b)

Unidades lineales de lado	1	2	3	4
N.º de puntos por los que pasa	3	6	10	15

c) $y = \frac{(x+1) \cdot (x+2)}{2}$

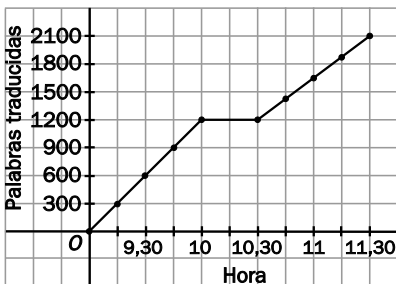
8.72. (TIC) Un traductor trabaja desde las 9.00 hasta las 11.30. Durante la primera hora traduce a un ritmo de 20 palabras por minuto. Después descansa media hora y luego continúa trabajando a 15 palabras por minuto.

- a) Construye una tabla de valores que exprese el número de palabras que lleva traducidas cada 15 minutos.
- b) Representa gráficamente los datos de la tabla.
- c) ¿Es una función continua? ¿Es siempre creciente?

a)

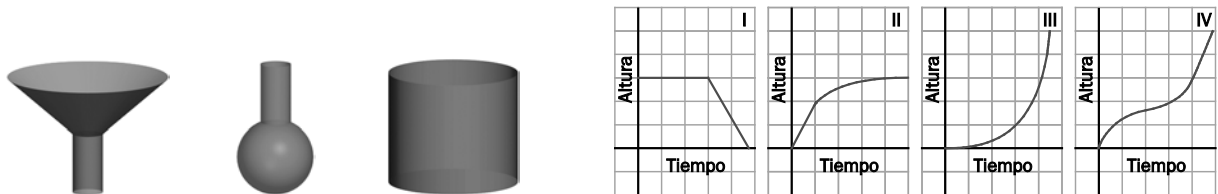
Hora	9.15	9.30	9.45	10.00	10.30	10.45	11.00	11.15	11.30
N.º de palabras	300	600	900	1200	1200	1425	1650	1875	2100

b)



- c) Se puede considerar como función continua porque el ritmo de 20 palabras por minuto es una media.

8.73. (TIC) Di si alguna de las gráficas se corresponde con el llenado de alguno de los recipientes que se muestran en la figura. En los que no sea posible, dibuja la gráfica correspondiente.

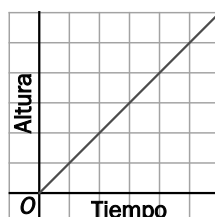


La gráfica 1 se puede descartar, ya que indica que el recipiente tiene agua al comenzar. También la gráfica 3, ya que se corresponde con el llenado de una botella que se llena muy despacio al principio, porque tiene una sección muy grande, y que cada vez se llena más rápido porque su sección se va estrechando.

La gráfica 2 corresponde al primer recipiente, primero se llena muy rápido y de forma lineal en la parte cilíndrica, y luego, más lento a medida que se asciende por el cono.

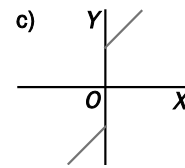
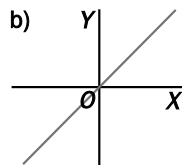
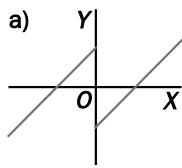
La gráfica 4 corresponde al llenado del recipiente 2. Este se llena en dos fases, primero la esfera y luego el cilindro. En la esfera, el crecimiento de la función debe ser rápido al principio, ya que las secciones transversales tienen un radio pequeño. Como el radio crece hasta el ecuador de la esfera, al principio, la velocidad a la que aumenta la altura del recipiente es decreciente. Después, el radio disminuye y, por tanto, la velocidad a la que crece la altura aumenta. El último tramo de la gráfica ha de ser una recta de gran pendiente, ya que es el llenado de un cilindro de radio pequeño.

La gráfica correspondiente al recipiente 3 es:



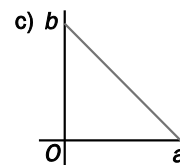
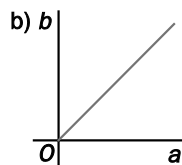
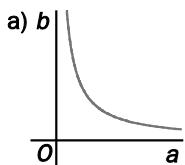
AMPLIACIÓN

8.74. (TIC) De las siguientes gráficas, ¿cuál es la de la función $y = x - \frac{x}{|x|}$?



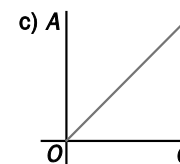
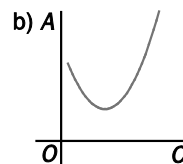
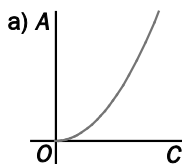
La función en cuestión es $y = \begin{cases} x-1 & \text{si } x > 0 \\ x+1 & \text{si } x < 0 \end{cases}$, que responde a la gráfica a.

8.75. El profesor de un grupo de 2.º de ESO ha pedido a los estudiantes que marquen los puntos del plano (a, b) , donde a y b son las dimensiones de un rectángulo de área 12. ¿Qué gráfica de las siguientes responde a la pregunta:



Al ser $ab = 12$, es $b = \frac{12}{a}$, que corresponde a la gráfica del apartado a.

8.76. Berta dibuja 20 circunferencias de radios 1, 2, 3, ..., 20 y luego señala los puntos del plano (C, A) , donde C es la longitud de cada una de las circunferencias, y A , el área del círculo correspondiente. ¿Cuál es la gráfica que dibuja?



Como $C = 2\pi r$, $r = \frac{C}{2\pi}$. Sustituyendo r en $A = \pi r^2$, se obtiene $A = \pi \cdot \left(\frac{C}{2\pi}\right)^2 = \frac{1}{4\pi} C^2$, que responde a la gráfica del apartado a.

8.77. Una función muy complicada viene dada por: $y = x^{2010} - x^{2009} + x^{2008} - x^{2007} + \dots + x^2 - x + 5$

Es seguro que su gráfica no contiene ningún punto del cuadrante:

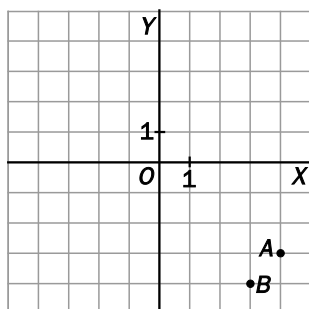
- a) 1.º b) 2.º c) 3.º d) 4.º

Al ser negativos los coeficientes de x de exponente impar, sigue que si $x < 0$, $f(x)$ es positivo, por lo que la gráfica nunca podrá contener ningún punto del 3.º cuadrante.

AUTOEVALUACIÓN

8.1. Representa los siguientes puntos en los ejes de coordenadas.

- a) Un punto *A* de abscisa 4 y ordenada -3.
- b) Un punto *B* de abscisa 3 y ordenada -4.



8.2. La función *f* asigna a cada número natural el resultado de sumarle 3 y elevar la suma al cuadrado, y la función *g* asocia a cada número natural el resultado de elevarlo al cuadrado y sumarle 3.

- a) Escribe las expresiones de *f* y de *g*.
- b) ¿Son *f* y *g* funciones iguales?
- c) Halla las imágenes de 2, 5 y 0 según *f*.
- d) Halla las imágenes de 2, 5 y 0 según *g*.

a) $f(x) = (x + 3)^2$; $g(x) = x^2 + 3$

b) *f* y *g* son funciones diferentes.

c) $f(2) = (2 + 3)^2 = 5^2 = 25$ $f(5) = (5 + 3)^2 = 8^2 = 64$ $f(0) = (0 + 3)^2 = 9$

d) $g(2) = 2^2 + 3 = 7$ $g(5) = 5^2 + 3 = 28$ $g(0) = 0^2 + 3 = 3$

8.3. Si $f(x) = 2x - 3$, copia en tu cuaderno y halla los valores que faltan.

a) $f(-2) = \square$

c) $f(0) = \square$

b) $f(\square) = 0$

d) $f(\square) = 1$

a) $f(-2) = 2 \cdot (-2) - 3 = -4 - 3 = -7$

c) $f(0) = 2 \cdot 0 - 3 = -3$

b) $f(x) = 0 \Rightarrow 2x - 3 = 0 \Rightarrow x = \frac{3}{2}$

d) $f(x) = 1 \Rightarrow 2x - 3 = 1 \Rightarrow x = \frac{4}{2} = 2$

8.4. Dada la función $y = 3x - 2$.

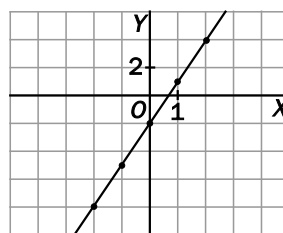
a) Construye una tabla de valores.

a)

<i>x</i>	-2	-1	0	1	2
<i>y</i>	-8	-5	-2	1	4

b) Representa gráficamente la función.

b)

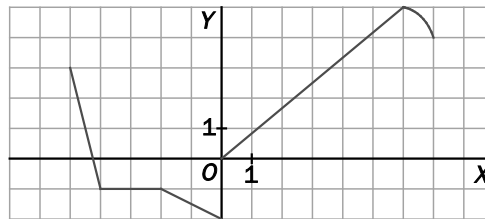


8.5. Un conductor va a 100 kilómetros por hora. Escribe una función que relacione la distancia recorrida con el tiempo transcurrido.

$f(x) = 100x$, siendo x el tiempo transcurrido en horas.

8.6. a) Explica si la siguiente función es continua o discontinua.

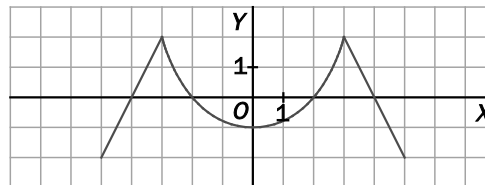
b) Señala los tramos en los que la función es creciente, decreciente o constante.



a) La función es discontinua, ya que da un salto en $x = 0$.

b) Decrece entre -5 y -4 , entre -2 y 0 y entre 6 y 7 . Es constante de -4 a -2 . Y crece entre 0 y 6 .

8.7. Estudia la función.



a) ¿Cuál es su dominio? ¿Y su recorrido?

b) ¿En qué puntos corta a los ejes?

c) ¿Cuáles son los máximos y los mínimos?

a) Su dominio son todos los números entre -5 y 5 . Y su recorrido, los números entre -2 y 2 .

b) Con el eje de abscisas: $(-4, 0)$, $(-2, 0)$, $(2, 0)$ y $(4, 0)$. Y con el de ordenadas, $(0, -1)$.

c) Tiene dos máximos, en $x = -3$ y en $x = 3$, y un mínimo en $x = 0$.

PON A PRUEBA TUS COMPETENCIAS

Analiza e interpreta > El viaje de Sara

Sara ha estado este verano de viaje. Ha recorrido varias ciudades, en las que había diferencias de temperatura bastante grandes. Por curiosidad, ha ido apuntando en una tabla la temperatura media durante cada día de su viaje.

Día	1	2	3	4	5	6	7	8	9	10	11	12	13	14	15
Temperatura (°C)	22	21	24	25		29	36	29	27	22	15	21	24	22	23

8.1. El quinto día, Sara no pudo apuntar la temperatura. Recuerda que subió, pero no demasiado bruscamente, y que el cambio al día siguiente fue mayor. ¿Qué dato podría encajar con esta descripción?

Podría ser, por ejemplo, 26 °C.

8.2. ¿Cuáles han sido las temperaturas máximas y mínimas durante el viaje?

La temperatura máxima y la mínima fueron 36 y 15 °C, respectivamente.

8.3. Suponiendo que en este viaje no salió de España, ¿cómo explicarías las diferencias de temperatura?

Las diferencias se explican por los distintos climas en España y por la altura a la que se encuentra cada día. El máximo podría corresponder a un día caluroso en alguna región semidesértica, ya que hay mucha variación respecto a los días más próximos, y el mínimo correspondería a una zona de montaña.

Sara quiere hacer un resumen de sus vacaciones, en el que pondrá fotos de los lugares visitados, recuerdos del viaje, etc.

A su madre no le gustan mucho las tablas de Sara, y le sugiere que quedaría mejor alguna gráfica con los datos que ha ido anotando durante todos esos días.

Además de las temperaturas, Sara ha recogido la distancia recorrida cada día y las horas de viaje.

Día	1	2	3	4	5	6	7	8	9	10	11	12	13	14	15
Horas	6	1	3	1	1	3	3	4	0,25	3	3	2	1	0,25	0,25

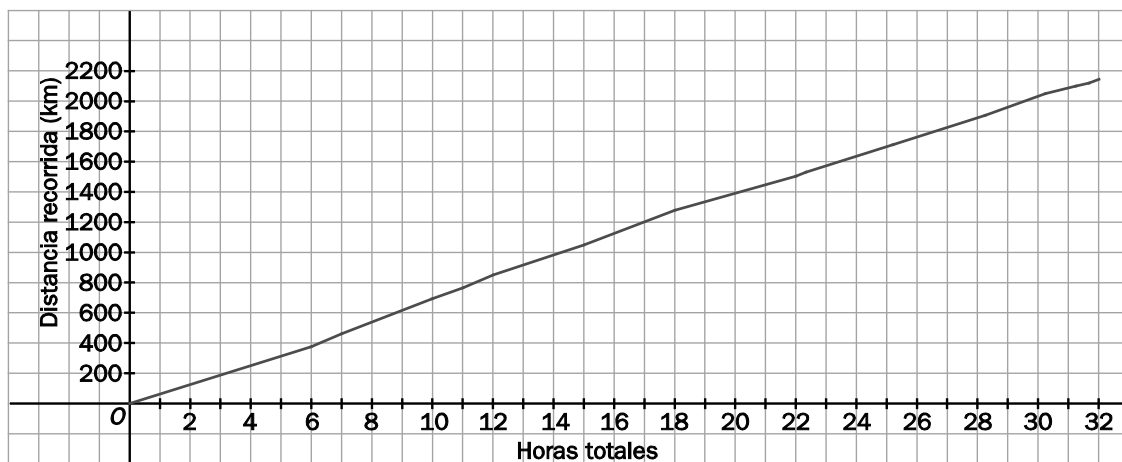
Día	1	2	3	4	5	6	7	8	9	10	11	12	13	14	15
Distancia (km)	390	75	240	70	60	210	220	250	10	200	180	145	90	10	10

8.4. Sara ha decidido dibujar una sola gráfica. Para hacerlo, ha unido los datos en una tabla, en la que aparecen las horas totales y la distancia total recorrida. Completa la tabla y dibuja la gráfica correspondiente.

Horas totales	0	6	7	10											
Distancia recorrida (km)	0	390	465	705											

Horas totales	0	6	7	10	11	12	15	18
Distancia recorrida (km)	0	390	465	705	775	835	1045	1265

Horas totales	22	22,25	25,25	28,25	30,25	31,25	31,5	31,75
Distancia recorrida (km)	1515	1525	1725	1905	2050	2140	2150	2160



8.5. Sara ha hecho todo el viaje en coche. ¿Cuál ha sido su velocidad media?

La velocidad media ha sido $2160 : 31,75 = 68 \text{ km/h}$.

8.6. Sara escribió una carta a un amigo, en la que le contó su viaje. Escribe la carta. Debes dar información sobre el viaje, pero es una carta a un amigo, no te limites a dar los datos. Puedes usar también los datos de las temperaturas de la actividad anterior. ¡A ver quién cuenta el viaje más interesante!

Respuesta abierta. Cada alumno elaborará su propia carta.

Planifica tu viaje > ¿Distancia o tiempo?

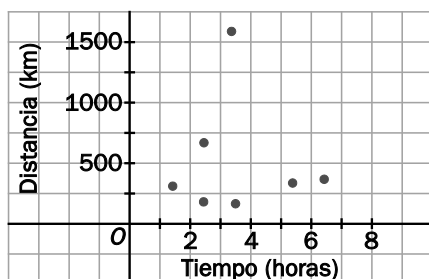
Pedro quiere hacer una escapada de fin de semana y tiene que elegir destino, pero como solo se va tres días, no quiere perder mucho tiempo en el viaje y únicamente va a elegir destinos que estén a menos de 4 horas de su ciudad (Córdoba).

Estudia estos destinos según la distancia, el medio de transporte y el tiempo que tarda en llegar, para ver cuál elige finalmente.

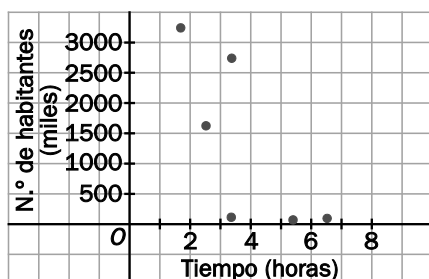
Destino	Distancia (km)	Tiempo	N.º de habitantes	Medio de transporte
Madrid	294	1 h 45 min	3 255 944	Tren de alta velocidad
Roma	1533,8	3 h 30 min	2 744 931	Tren + avión
Barcelona	710,2	2 h 45 min	1 621 537	Tren + avión
Béjar	290	5 h 30 min	15 007	Coche
Huelva	204,5	2 h 40 min	148 806	Coche
Melilla	328	6 h 42 min	73 460	Coche + ferry
Algeciras	204,4	3 h 30 min	116 209	Tren

8.1. Representa en una gráfica la distancia frente al tiempo, y en otra, el número de habitantes frente al tiempo de viaje.

Tiempo – Distancia



Tiempo – N.º de habitantes



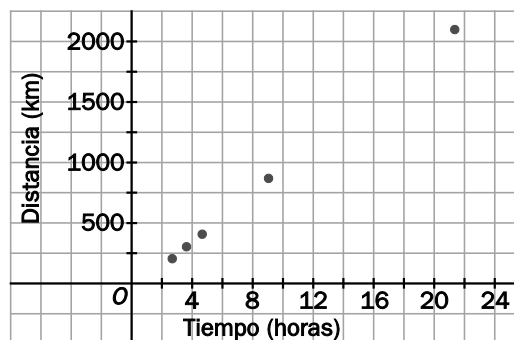
8.2. Describe las gráficas anteriores, estudiando su crecimiento y sus máximos y mínimos. ¿Puedes explicar por qué se tarda mucho menos en llegar a Madrid que a Béjar, si hay la misma distancia? ¿Qué ciudades pueden ser el destino del viaje de Pedro?

En ambas gráficas se ve que no hay relación directa entre el tiempo que se tarda en llegar y la otra variable. Aunque haya la misma distancia a Madrid y a Béjar, el medio de transporte es distinto, por lo que se tarda menos en llegar. Pedro elegirá cualquier destino, excepto Béjar y Melilla.

8.3. Entra en www.e-sm.net/2esoz34 y busca cuánto tiempo tardaría a cada destino si viajase sólo en coche.

Elabora una tabla en la que aparezcan los kilómetros por carretera que hay entre Córdoba y cada destino y el tiempo estimado en el recorrido, y represéntalos en una gráfica. ¿Cómo es la función que los relaciona? ¿A qué ciudades puede viajar Pedro si su único medio de transporte es el coche?

Destino	Distancia (km)	Tiempo
Madrid	401	4 h 27 min
Roma	2220	21 h 29 min
Barcelona	862	9 h
Béjar	445	5 h 32 min
Huelva	234	2 h 38 min
Melilla	–	–
Algeciras	292	3 h 8 min



8.4. En el mapa aparece el tiempo necesario para llegar desde cada punto del mundo a la ciudad más cercana de más de 50 000 habitantes. En esta página de la Comisión Europea www.e-sm.net/2esoz35 puedes ver el mapa con más información y ampliado.



8.5. ¿Qué indican los colores más claros? ¿Hay algún lugar de España a más de 3 horas de una ciudad de al menos 50 000 habitantes?

Los colores más claros corresponden a las zonas desde las que se tarda menos en llegar a una ciudad de más de 50 000 habitantes. En España no parece haber ninguna zona a más de 3 horas de una de estas ciudades.

8.6. ¿A qué regiones corresponden las zonas más oscuras? ¿Qué factores influyen en la accesibilidad de esas zonas?

Las zonas más oscuras son aquellas en las que se tarda más tiempo en llegar a alguna ciudad de más de 50 000 habitantes. Influyen dos factores: el clima extremo de algunas regiones y el escaso desarrollo de las infraestructuras en las regiones más pobres.

Proyecto editorial: **Equipo de Educación Secundaria del Grupo SM**

Autoría: **Ana María Álvarez, Marina Díaz, Mariano García, Serafín Mansilla, José Ramón Vizmanos**

Edición: **Rafaela Arévalo, Eva Béjar, Isabel de los Santos**

Revisión contenidos: **Jesús García Gual**

Corrección: **Ricardo Ramírez**

Ilustración: **Modesto Arregui, Estudio “Haciendo el león”**

Diseño: **Pablo Canelas, Alfonso Ruano**

Maquetación: **SAFEKAT S. L.**

Coordinación de diseño: **José Luis Rodríguez**

Coordinación editorial: **Josefina Arévalo**

Dirección del proyecto: **Aída Moya**

Cualquier forma de reproducción, distribución, comunicación pública o transformación de esta obra solo puede ser realizada con la autorización de sus titulares, salvo excepción prevista por la ley. Diríjase a CEDRO (Centro Español de Derechos Reprográficos, www.cedro.org) si necesita fotocopiar o escanear algún fragmento de esta obra, a excepción de las páginas que incluyen la leyenda de “Página fotocopiable”.

© Ediciones SM

Impreso en España – *Printed in Spain*