


Rompecocos 1

Cuaderno de Actividades Matemáticas

Primer ciclo de E. Primaria



Alumno/a: _____

Colegio: _____

Coloca y efectúa.

$32 + 45 =$

$24 + 66 =$

$45 + 13 =$

$38 + 37 =$

Si hoy es lunes, ¿qué día será mañana? _____

¿ Cuántos meses tiene el año? _____

Escríbelos aquí: _____

Completa.

28		24	22				
----	--	----	----	--	--	--	--

Sigue.

45		49	51				
----	--	----	----	--	--	--	--

Coloca y efectúa.

$$12 + 47 =$$

$$67 + 24 =$$

$$83 + 16 =$$

$$55 + 19 =$$

Si hoy es viernes, ¿qué día será mañana? _____

¿ Cuántos años tienes? _____

¿ Cuándo es tu cumpleaños? _____

Anteriores y posteriores.

_____ 34 _____

_____ 46 _____

_____ 58 _____

_____ 29 _____

_____ 59 _____

_____ 70 _____

Coloca y efectúa.

$$84 + 85 =$$

$$57 + 56 =$$

$$72 + 78 =$$

$$46 + 46 =$$

Escribe con letras:

67 _____

34 _____

86 _____

_ / _ / _

Completa como en el ejemplo:

$67 \text{ es } 60 + 7$

$18 \text{ es } \underline{\quad\quad} + \underline{\quad\quad} \quad 39 \text{ es } \underline{\quad\quad} + \underline{\quad\quad}$

$78 \text{ es } \underline{\quad\quad} + \underline{\quad\quad} \quad 91 \text{ es } \underline{\quad\quad} + \underline{\quad\quad}$

$27 \text{ es } \underline{\quad\quad} + \underline{\quad\quad} \quad 46 \text{ es } \underline{\quad\quad} + \underline{\quad\quad}$

Coloca y efectúa.

$62 + 7 =$

$34 + 4 =$

$86 + 6 =$

$56 + 9 =$

Si una bolsa de caramelos vale 75 céntimos de euro, ¿cuánto valen dos bolsas?

Respuesta: _____

Anteriores y posteriores.

_____ 40 _____

_____ 50 _____

_____ 49 _____

_____ 69 _____

_____ 59 _____

_____ 70 _____

Coloca y efectúa.

$$44 + 8 =$$

$$59 + 6 =$$

$$79 + 7 =$$

$$76 + 4 =$$

Escribe con letras:

33 _____

55 _____

77 _____

Completa como en el ejemplo:


$$86 \text{ es } 80 + 6$$

$$24 \text{ es } \underline{\hspace{2cm}} + \underline{\hspace{2cm}} \quad 85 \text{ es } \underline{\hspace{2cm}} + \underline{\hspace{2cm}}$$

$$33 \text{ es } \underline{\hspace{2cm}} + \underline{\hspace{2cm}} \quad 22 \text{ es } \underline{\hspace{2cm}} + \underline{\hspace{2cm}}$$

$$48 \text{ es } \underline{\hspace{2cm}} + \underline{\hspace{2cm}} \quad 44 \text{ es } \underline{\hspace{2cm}} + \underline{\hspace{2cm}}$$

Colorea el coche que va en tercera posición.



Rafa tiene siete años y su hermana tiene cinco años más que él. ¿cuántos años tiene su hermana?

Respuesta: _____

Anteriores y posteriores.

____ 79 ____

____ 25 ____

____ 31 ____

____ 13 ____

____ 19 ____

____ 11 ____

Coloca y efectúa.

$4 + 80 =$

$5 + 60 =$

$7 + 70 =$

$7 + 40 =$

Escribe con letras:

99 _____

44 _____

22 _____

Completa.

28		24	22				
----	--	----	----	--	--	--	--

Sigue.

45		49	51				
----	--	----	----	--	--	--	--

Coloca y efectúa.

$$55 + 44 =$$

$$44 + 33 =$$

$$22 + 77 =$$

$$11 + 88 =$$

Si hoy es martes, ¿qué día será mañana? _____

¿ Cuántos hermanos tienes? _____

¿ Dónde vives? _____

_ / _ / _

Sigue la serie de tres en tres.

27		33					
	54						

Coloca y efectúa.

$$49 + 15 =$$

$$17 + 76 =$$

$$77 + 70 =$$

$$59 + 22 =$$

Escribe con letras:

77 _____

55 _____

99 _____

Escribe desde el 5 al 99 de dos en dos.

5					
	79				
					99

Rompecocos 1.

Contenidos.

Numeración: 0 al 99.

- *Ordinales*
- *Escritura de números.*
- *Ordenación.*
- *Composición y descomposición de cantidades.*
- *Anteriores y posteriores.*
- *Series ascendentes y descendentes.*

Iniciación a las horas en relojes.

- *Horas en punto.*
- *Medias horas.*

Problemas que implican:

- *Sumas y restas sin llevadas.*
- *Sumas con llevadas.*
- *Restas con llevadas. (Iniciación)*

Rompecocos 1

Primer ciclo de E. Primaria

Rompecocos 1 es un repertorio de actividades pensadas para reforzar los aprendizajes matemáticos correspondientes al primer ciclo de Primaria.

El tutor/a dispone en este cuadernillo de una batería de ejercicios que agilizan en los alumnos y alumnas su cálculo mental, su razonamiento y la asimilación de los contenidos propios del nivel.

Contenidos:

Numeración: 99

Problemas:


Una operación.

Cálculo:

Sumas sin llevadas

Restas sin llevadas

Sumas con llevadas



**cuatro
emes**

Ediciones

Ahumada 6. 2-2º
11004. Cádiz
956 010018

Cuadernillos de la colección:

Rompecocos 1. Rompecocos 3

Rompecocos 2 Rompecocos 4